

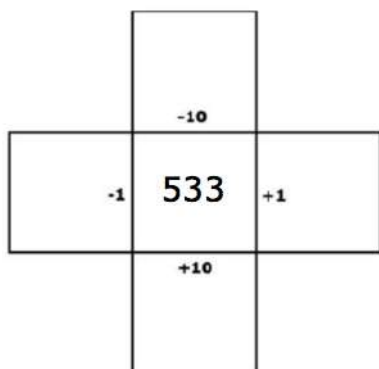
STOVKOVÉ TABULKY - 1-1000 - PRACOVNÍ LISTY

Materiál obsahuje:

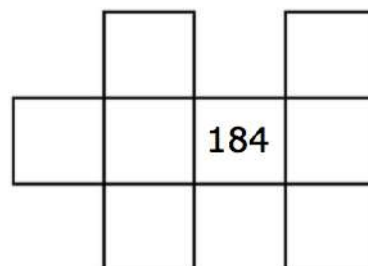
- **10 stovkových tabulek**, každá na A5, kategorie 1-100, 101-200, 201-300, 301-400, 401-500, 501-600, 601-700, 701-800, 901-1000
- **60 pracovních listů** se zadáním (6 pro každou kategorii)
- **4 prázdné šablony** pro vlastní příklady

Typy pracovních listů:

1. MÉNĚ - VÍCE: zapisují se čísla, která jsou větší a menší o 1 a větší a menší o 10



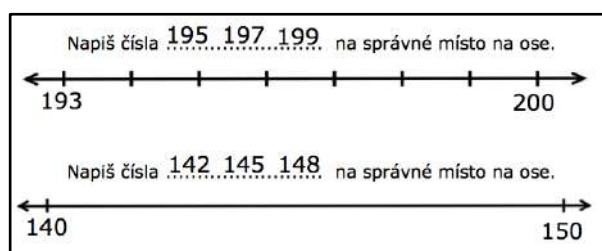
2. PUZZLE: doplňují se čísla ze stovkové tabulky













3. CHYBĚJÍCÍ ČÍSLA: doplňují se čísla dle logické posloupnosti

1.	<u>631</u>	___	<u>633</u>	___	___	<u>636</u>	<u>637</u>	___	___	___
2.	___	___	<u>630</u>	___	___	___	<u>670</u>	___	<u>690</u>	___

4. ČÍSELNÉ ŘADY: doplňují se čísla na osách



5. SKRYTÁ ČÍSLA: doplňují čísla zakrytá obrázky

601	602	603	604		606	607	608		610
611		613		615	616	617	618	619	
621	622	623		625	626	627	628	629	630
	632		634	635	636	637	638		640
641	642	643	644	645		647	648	649	650

6. ZTRACENÁ ČÍSLA: doplňují prázdná políčka stovkové tabulky

941		943	944	945	946	947	948		950
951	952	953	954		956		958	959	960
961	962		964	965	966	967	968		970
971	972	973		975	976		978	979	980
981		983	984	985	986	987		989	990
991	992		994		996	997	998		1000

Doplň ztracená čísla.

PROSÍM O RESPEKTOVÁNÍ AUTORSTVÍ.

NENÍ POVOLENO:

Komerční použití materiálu.

Poskytování materiálu třetím osobám.

Sdílení materiálu na sociálních sítích,
nahrávání na webová úložiště
či posílání emailem.



zodpovědná výuka

1 - 100

1	2	3	4	5	6	7	8	9	10
11	12	13	14	15	16	17	18	19	20
21	22	23	24	25	26	27	28	29	30
31	32	33	34	35	36	37	38	39	40
41	42	43	44	45	46	47	48	49	50
51	52	53	54	55	56	57	58	59	60
61	62	63	64	65	66	67	68	69	70
71	72	73	74	75	76	77	78	79	80
81	82	83	84	85	86	87	88	89	90
91	92	93	94	95	96	97	98	99	100

101 - 200

101	102	103	104	105	106	107	108	109	110
111	112	113	114	115	116	117	118	119	120
121	122	123	124	125	126	127	128	129	130
131	132	133	134	135	136	137	138	139	140
141	142	143	144	145	146	147	148	149	150
151	152	153	154	155	156	157	158	159	160
161	162	163	164	165	166	167	168	169	170
171	172	173	174	175	176	177	178	179	180
181	182	183	184	185	186	187	188	189	190
191	192	193	194	195	196	197	198	199	200

201 - 300

201	202	203	204	205	206	207	208	209	210
211	212	213	214	215	216	217	218	219	220
221	222	223	224	225	226	227	228	229	230
231	232	233	234	235	236	237	238	239	240
241	242	243	244	245	246	247	248	249	250
251	252	253	254	255	256	257	258	259	260
261	262	263	264	265	266	267	268	269	270
271	272	273	274	275	276	277	278	279	280
281	282	283	284	285	286	287	288	289	290
291	292	293	294	295	296	297	298	299	300

301 - 400

301	302	303	304	305	306	307	308	309	310
311	312	313	314	315	316	317	318	319	320
321	322	323	324	325	326	327	328	329	330
331	332	333	334	335	336	337	338	339	340
341	342	343	344	345	346	347	348	349	350
351	352	353	354	355	356	357	358	359	360
361	362	363	364	365	366	367	368	369	370
371	372	373	374	375	376	377	378	379	380
381	382	383	384	385	386	387	388	389	390
391	392	393	394	395	396	397	398	399	400

401 - 500

401	402	403	404	405	406	407	408	409	410
411	412	413	414	415	416	417	418	419	420
421	422	423	424	425	426	427	428	429	430
431	432	433	434	435	436	437	438	439	440
441	442	443	444	445	446	447	448	449	450
451	452	453	454	455	456	457	458	459	460
461	462	463	464	465	466	467	468	469	470
471	472	473	474	475	476	477	478	479	480
481	482	483	484	485	486	487	488	489	490
491	492	493	494	495	496	497	498	499	500

501 - 600

501	502	503	504	505	506	507	508	509	510
511	512	513	514	515	516	517	518	519	520
521	522	523	524	525	526	527	528	529	530
531	532	533	534	535	536	537	538	539	540
541	542	543	544	545	546	547	548	549	550
551	552	553	554	555	556	557	558	559	560
561	562	563	564	565	566	567	568	569	570
571	572	573	574	575	576	577	578	579	580
581	582	583	584	585	586	587	588	589	590
591	592	593	594	595	596	597	598	599	600

601 - 700

601	602	603	604	605	606	607	608	609	610
611	612	613	614	615	616	617	618	619	620
621	622	623	624	625	626	627	628	629	630
631	632	633	634	635	636	637	638	639	640
641	642	643	644	645	646	647	648	649	650
651	652	653	654	655	656	657	658	659	660
661	662	663	664	665	666	667	668	669	670
671	672	673	674	675	676	677	678	679	680
681	682	683	684	685	686	687	688	689	690
691	692	693	694	695	696	697	698	699	700

701 - 800

701	702	703	704	705	706	707	708	709	710
711	712	713	714	715	716	717	718	719	720
721	722	723	724	725	726	727	728	729	730
731	732	733	734	735	736	737	738	739	740
741	742	743	744	745	746	747	748	749	750
751	752	753	754	755	756	757	758	759	760
761	762	763	764	765	766	767	768	769	770
771	772	773	774	775	776	777	778	779	780
781	782	783	784	785	786	787	788	789	790
791	792	793	794	795	796	797	798	799	800

801 - 900

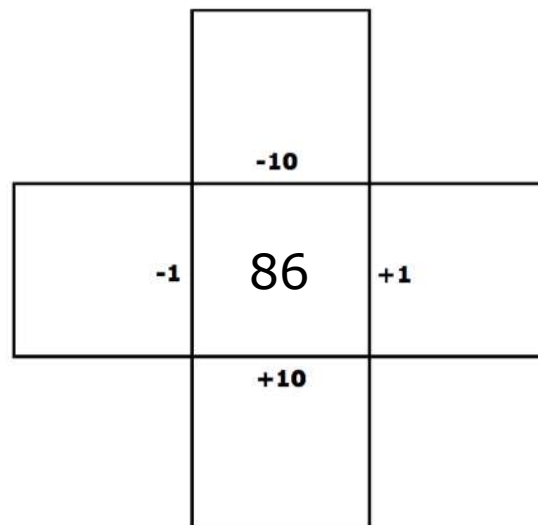
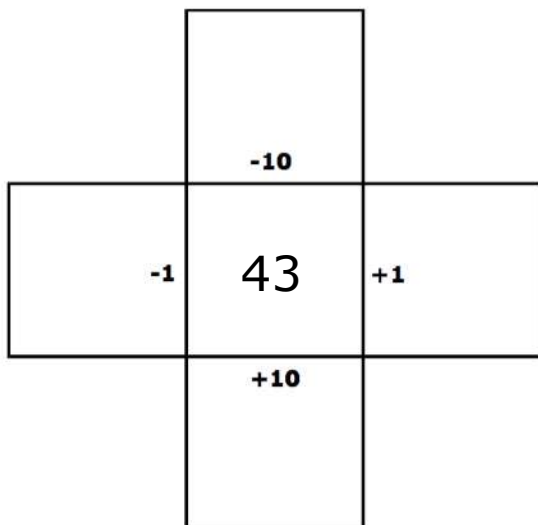
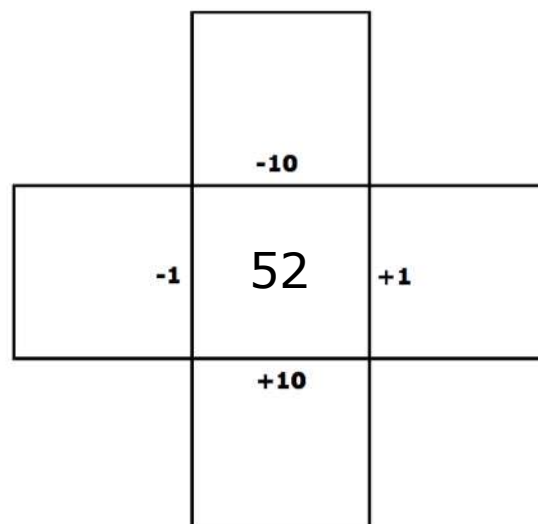
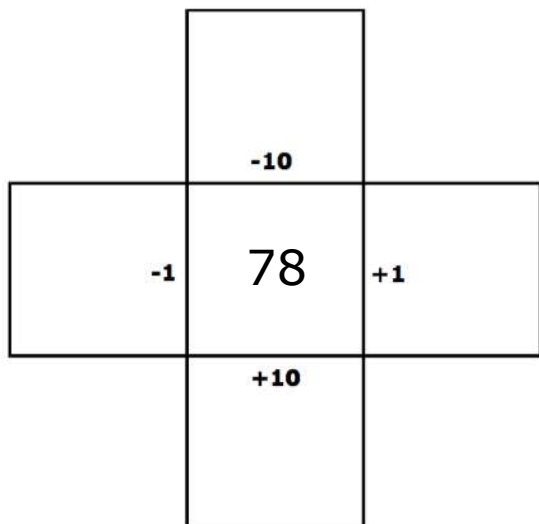
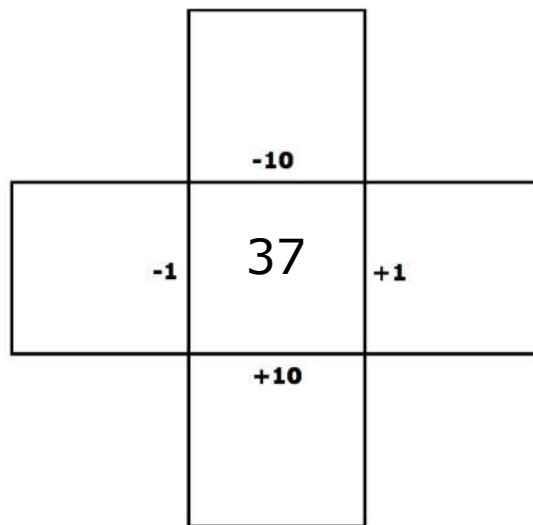
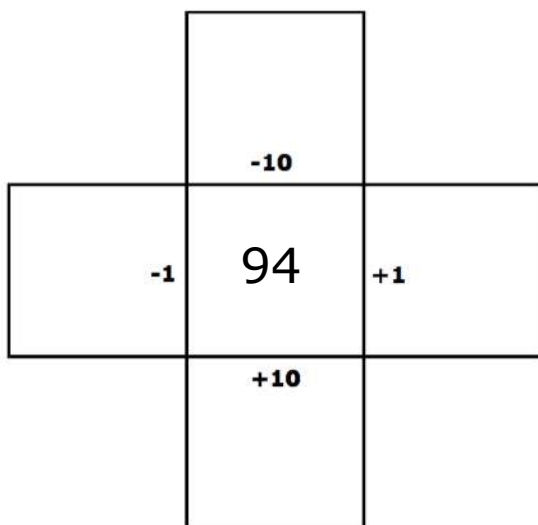
801	802	803	804	805	806	807	808	809	810
811	812	813	814	815	816	817	818	819	820
821	822	823	824	825	826	827	828	829	830
831	832	833	834	835	836	837	838	839	840
841	842	843	844	845	846	847	848	849	850
851	852	853	854	855	856	857	858	859	860
861	862	863	864	865	866	867	868	869	870
871	872	873	874	875	876	877	878	879	880
881	882	883	884	885	886	887	888	889	890
891	892	893	894	895	896	897	898	899	900

901 - 1000

901	902	903	904	905	906	907	908	909	910
911	912	913	914	915	916	917	918	919	920
921	922	923	924	925	926	927	928	929	930
931	932	933	934	935	936	937	938	939	940
941	942	943	944	945	946	947	948	949	950
951	952	953	954	955	956	957	958	959	960
961	962	963	964	965	966	967	968	969	970
971	972	973	974	975	976	977	978	979	980
981	982	983	984	985	986	987	988	989	990
991	992	993	994	995	996	997	998	999	1000

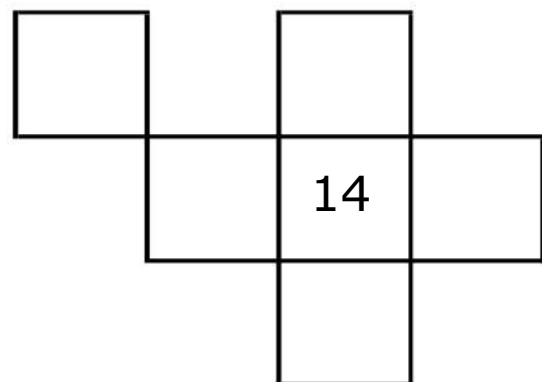
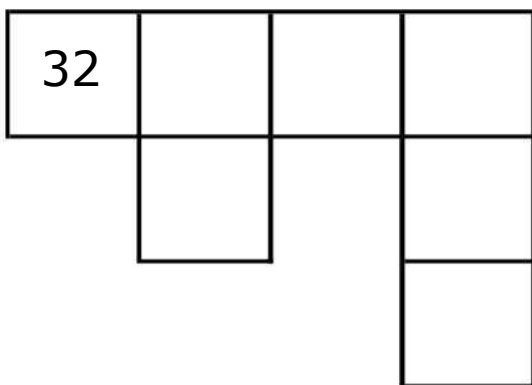
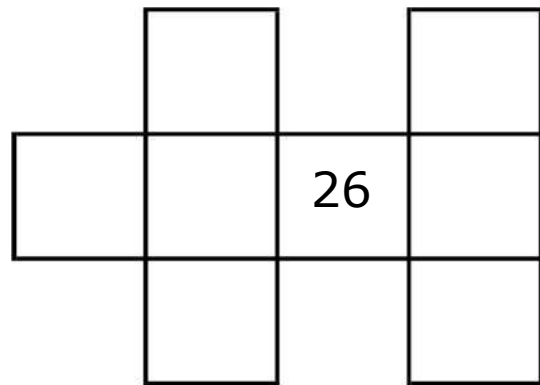
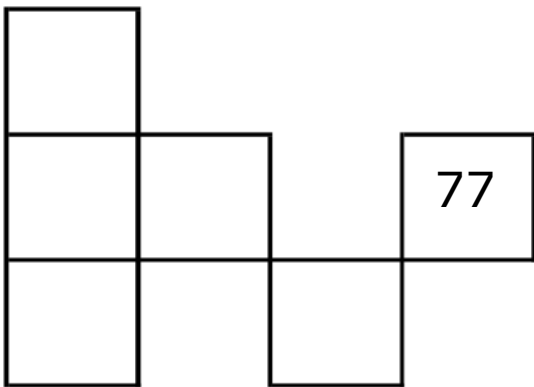
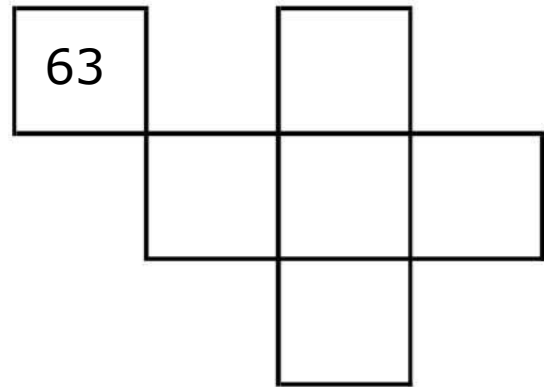
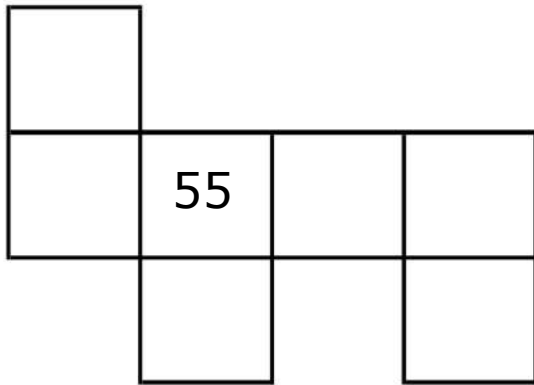
MÉNĚ-VÍCE

1-100



PUZZLE

1-100



CHYBĚJÍCÍ ČÍSLA

1-100

Najdi souvislost mezi jednotlivými čísly a doplň chybějící.

1. 31 33 36 37

2. 30 70 90

3. 56 59

4. 74 78

5. 63 66

6. 99 100

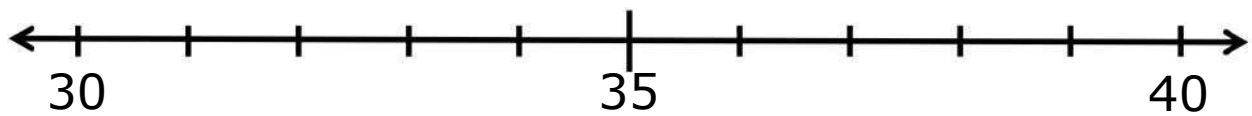
7. 42 44 48

8. 83 87 89


ČÍSELNÉ ŘADY

1-100


Napiš čísla ...33...36...31... na správné místo na ose.



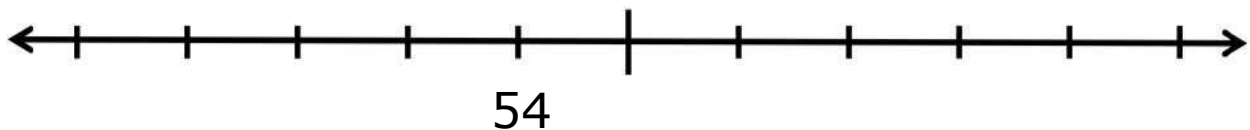
Napiš čísla ...95...97...99... na správné místo na ose.




Napiš čísla ...42...45...48... na správné místo na ose.




Napiš čísla ...51...57...60... na správné místo na ose.



Napiš čísla ...7...11...14... na správné místo na ose.





















Napiš čísla ...20...50...90... na správné místo na ose.



SKRYTÁ ČÍSLA

1 - 100

1	2	3	4		6	7	8		10
11		13	14	15	16	17	18	19	
21	22	23		25	26	27	28	29	30
	32	33	34	35	36	37	38		40
41	42	43	44	45		47	48	49	50
51		53	54	55	56	57	58	59	60
61	62	63	64		66	67		69	70
	72	73	74	75	76	77	78	79	
81	82		84	85	86		88	89	90
91		93		95	96	97		99	100

Zapiš čísla, která zakrývají obrázky.



--	--	--



--	--	--



--	--	--



--	--	--



--	--	--



--	--	--



ZTRACENÁ ČÍSLA

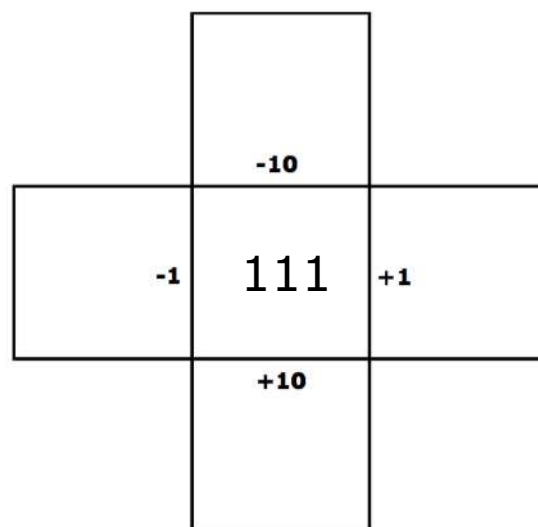
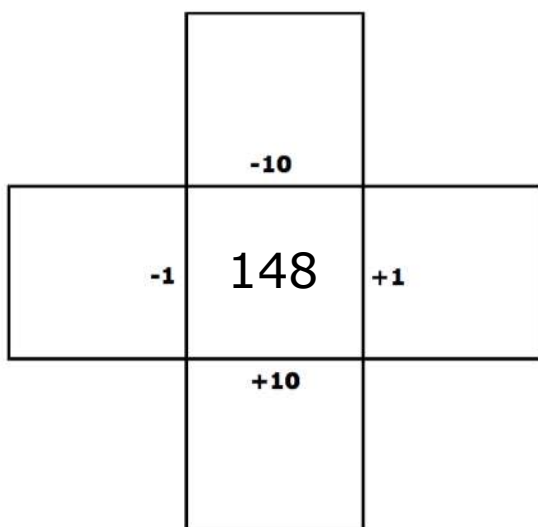
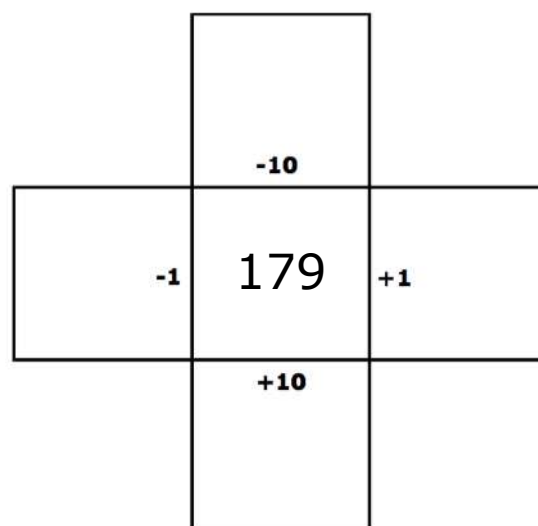
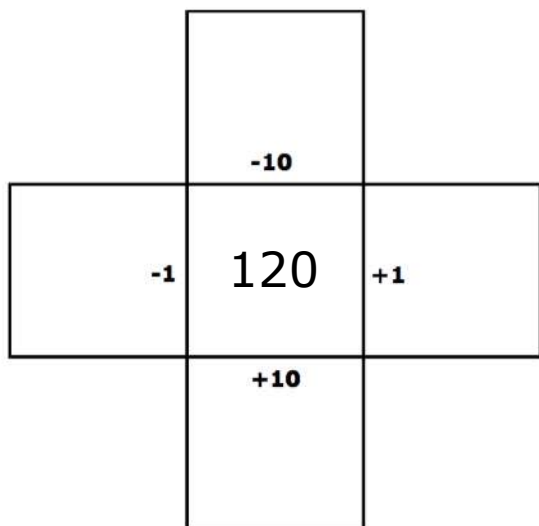
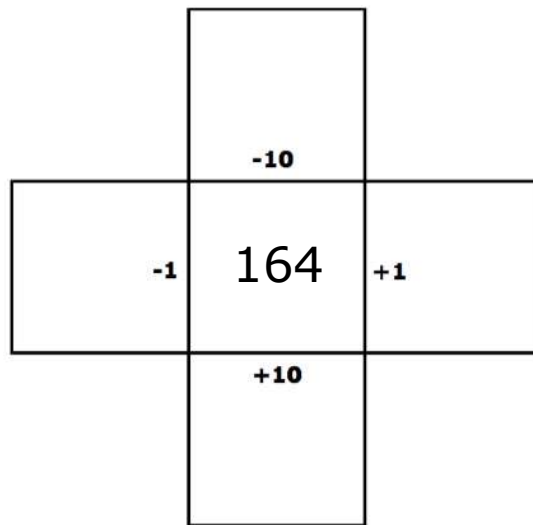
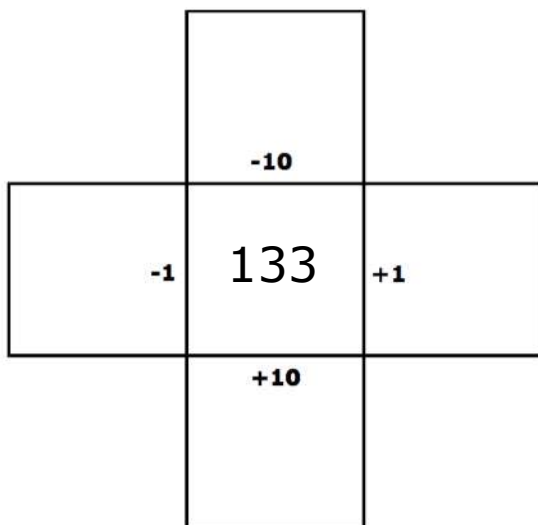
1 - 100

1		3	4		6	7	8		10
11	12	13	14	15	16	17	18	19	
21	22	23	24			27	28	29	30
31	32		34	35	36	37	38		40
41	42	43	44	45	46	47		49	50
51		53	54	55	56		58	59	60
61	62	63	64		66	67		69	70
71		73	74	75	76	77	78	79	
81	82	83		85	86	87	88	89	90
91				95	96	97		99	100

Doplň ztracená čísla.

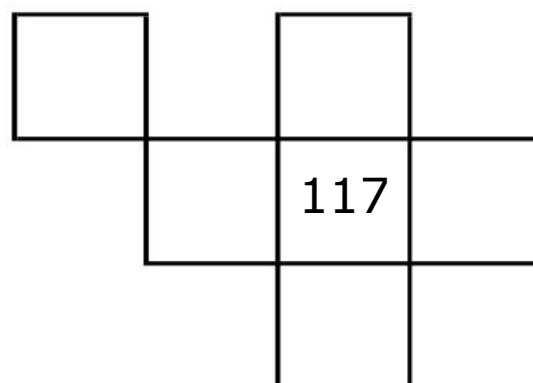
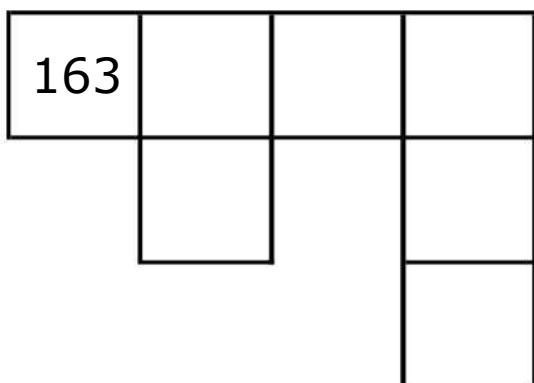
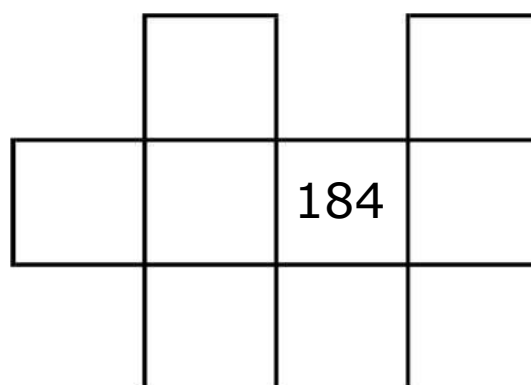
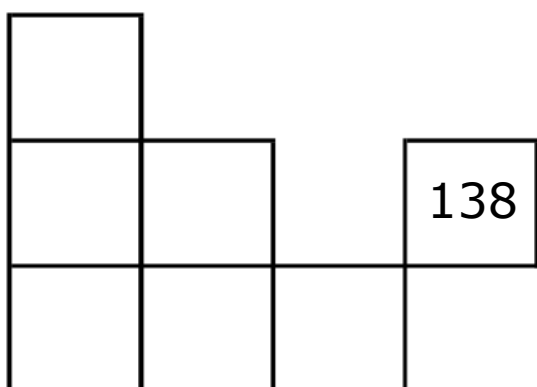
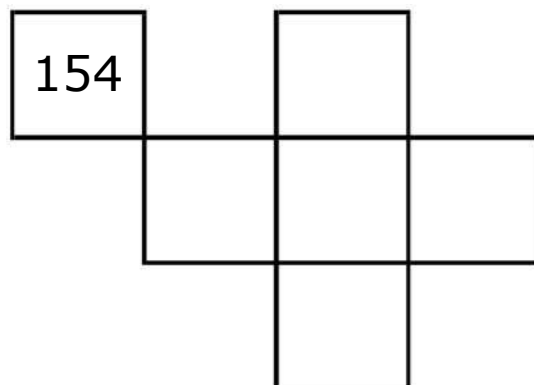
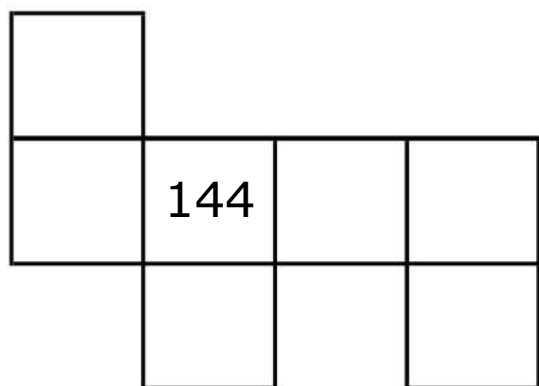
MÉNĚ-VÍCE

101-200



PUZZLE

101-200



CHYBĚJÍCÍ ČÍSLA

101-200

Najdi souvislost mezi jednotlivými čísly a doplň chybějící.

1. 131 ___ 133 ___ ___ 136 137 ___ ___ ___

2. ___ ___ 130 ___ ___ ___ 170 ___ 190 ___

3. ___ 156 ___ ___ 159 ___ ___ ___ ___

4. ___ ___ 174 ___ ___ ___ 178 ___ ___ ___

5. ___ ___ ___ ___ 163 ___ ___ 166 ___ ___

6. ___ ___ ___ ___ 195 ___ ___ ___ 199 ___

7. ___ 142 144 ___ 148 ___ ___ ___ ___

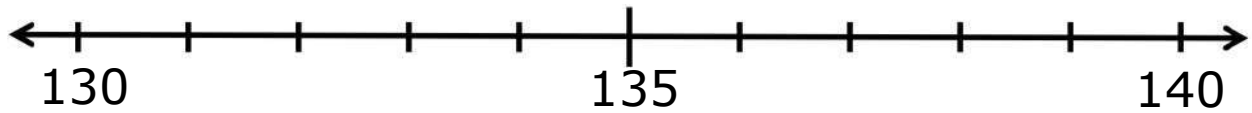
8. ___ ___ ___ 183 ___ 187 189 ___ ___ ___




ČÍSELNÉ ŘADY

101-200


Napiš čísla 133 136 131 na správné místo na ose.



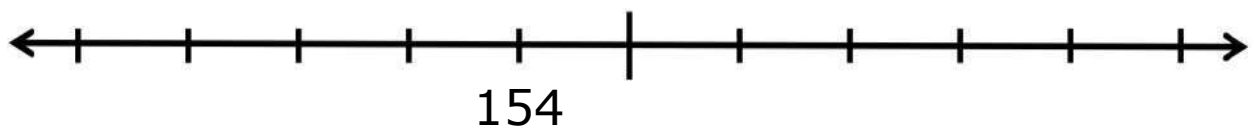
Napiš čísla 195 197 199 na správné místo na ose.




Napiš čísla 142 145 148 na správné místo na ose.




Napiš čísla 151 157 160 na správné místo na ose.



Napiš čísla 107 111 114 na správné místo na ose.





















Napiš čísla 120 150 190 na správné místo na ose.



SKRYTÁ ČÍSLA

101 - 200

101	102	103	104		106	107	108		110
111		113	114	115	116	117	118	119	
121	122	123			126	127	128		130
131	132	133	134	135	136	137	138		140
141	142	143	144	145		147	148	149	150
151		153	154	155	156	157	158	159	160
161	162	163	164		166	167		169	170
	172	173	174	175	176	177	178	179	
181	182		184	185	186		188	189	190
191		193	194	195	196	197		199	200

Zapiš čísla, která zakrývají obrázky.



--	--	--



--	--	--



--	--	--



--	--	--



--	--	--



--	--	--

ZTRACENÁ ČÍSLA

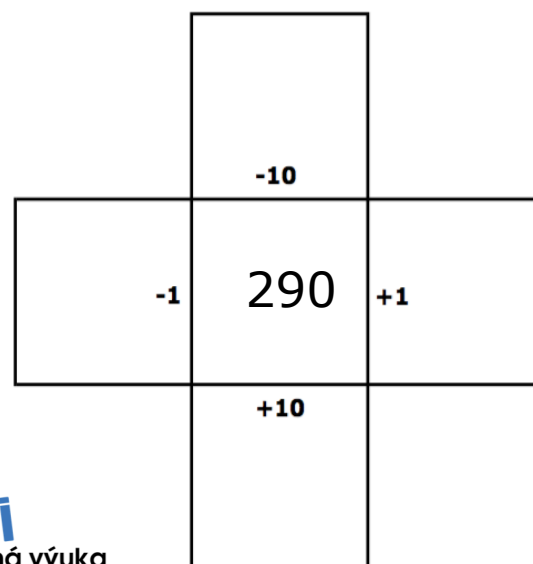
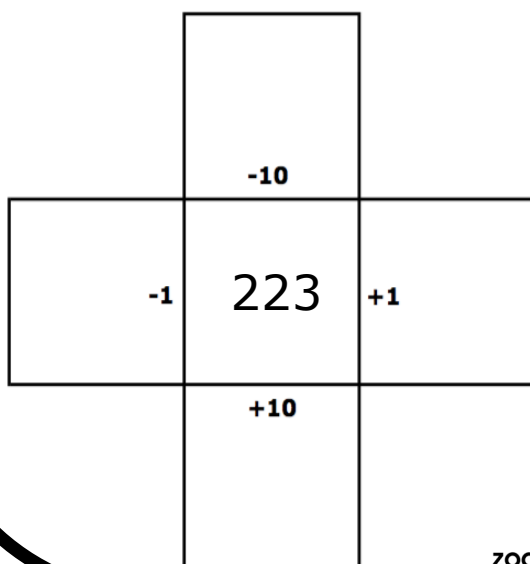
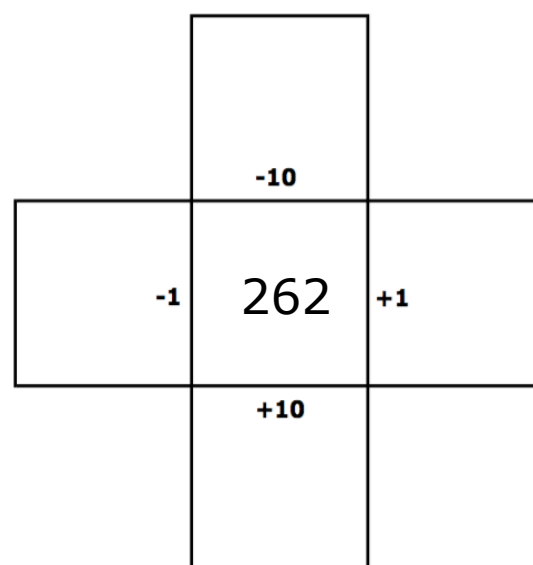
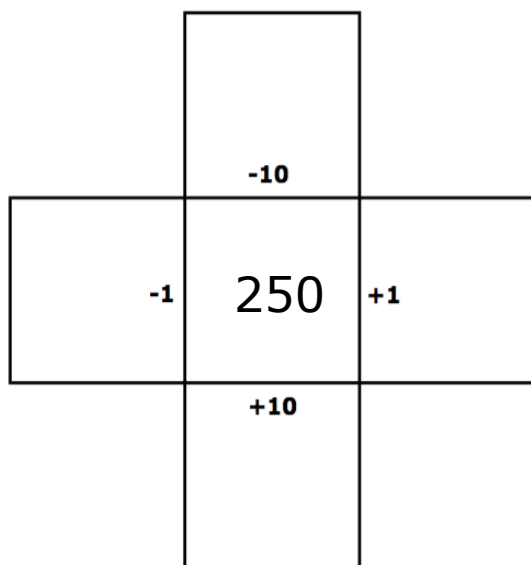
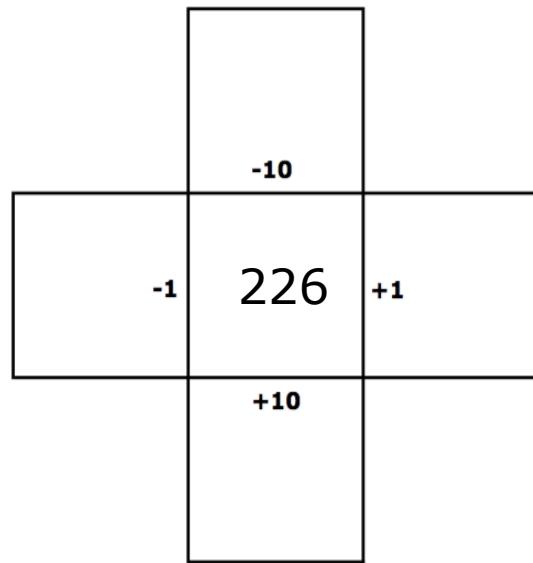
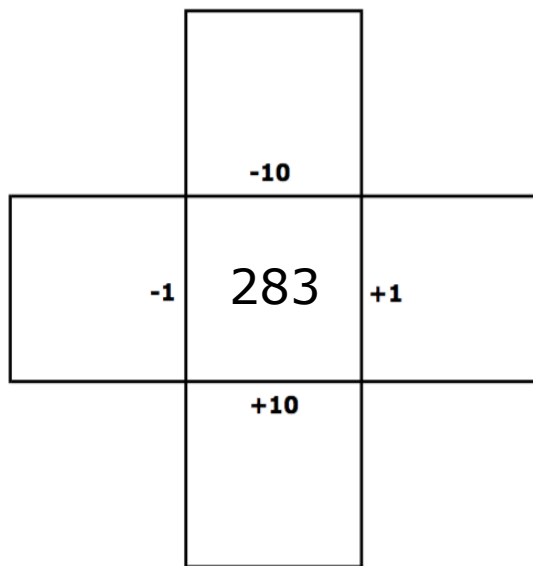
101 - 200

101		103	104	105	106	107		109	110
111	112	113	114		116	117	118		120
121	122	123	124	125	126		128	129	
131	132	133	134	135	136	137	138		140
141	142		144	145	146	147	148	149	150
151		153	154	155	156		158	159	160
161	162	163		165	166	167	168	169	
	172	173	174	175	176	177	178		180
181	182		184		186		188	189	190
191	192	193	194	195		197	198		

Doplň ztracená čísla.

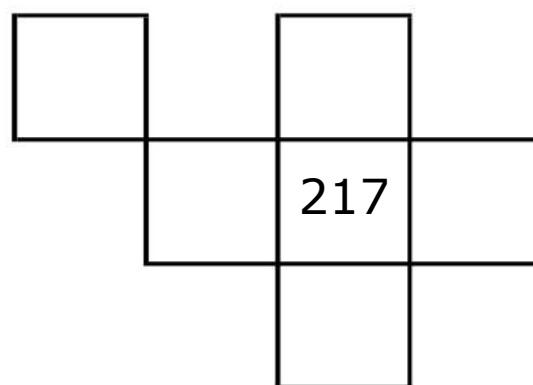
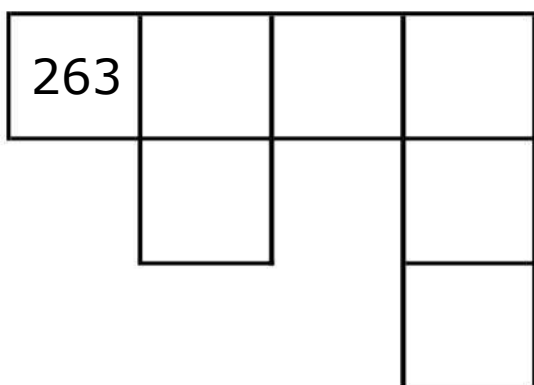
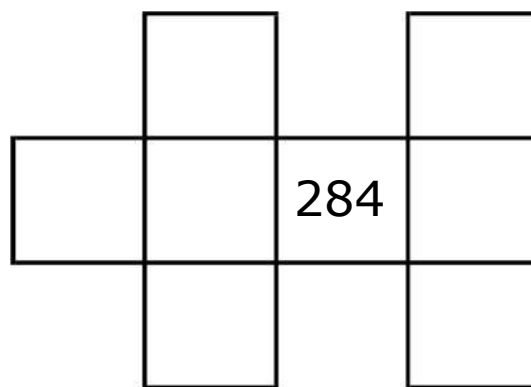
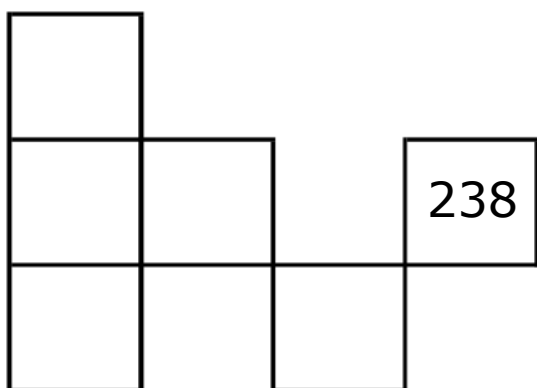
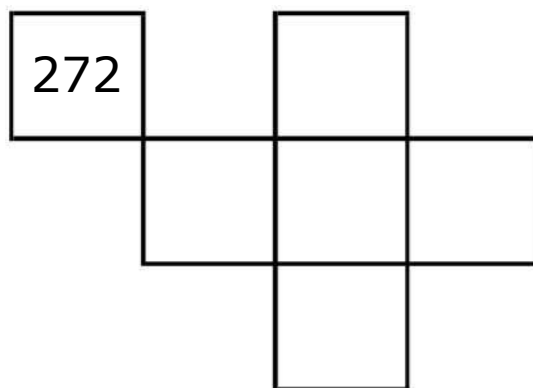
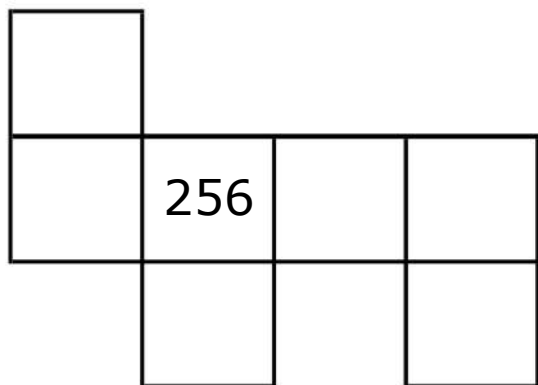
MÉNĚ-VÍCE

201 - 300



PUZZLE

201-300



CHYBĚJÍCÍ ČÍSLA

201-300

Najdi souvislost mezi jednotlivými čísly a doplň chybějící.

1. 231 ___ 233 ___ ___ 236 237 ___ ___ ___

2. ___ ___ 230 ___ ___ ___ 270 ___ 290 ___

3. ___ 256 ___ ___ 259 ___ ___ ___ ___

4. ___ ___ 274 ___ ___ ___ 278 ___ ___ ___

5. ___ ___ ___ ___ 263 ___ ___ 266 ___ ___

6. ___ ___ ___ ___ 295 ___ ___ ___ 299 ___

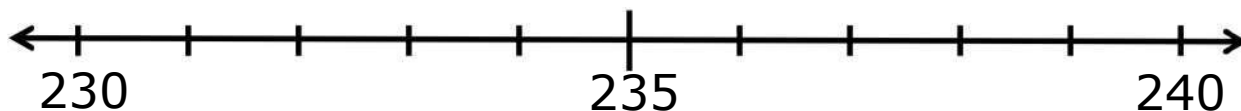
7. ___ 242 244 ___ 248 ___ ___ ___ ___

8. ___ ___ ___ 283 ___ 287 289 ___ ___ ___


ČÍSELNÉ ŘADY

201-300


Napiš čísla 233 236 231 na správné místo na ose.



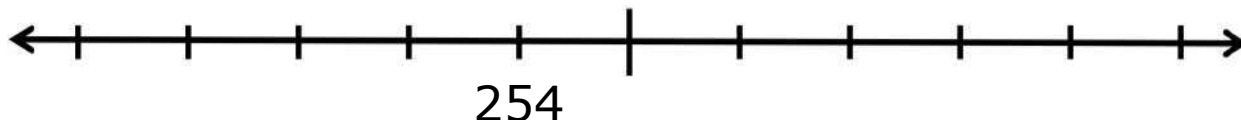
Napiš čísla 295 297 299 na správné místo na ose.




Napiš čísla 242 245 248 na správné místo na ose.




Napiš čísla 251 257 260 na správné místo na ose.



Napiš čísla 207 211 214 na správné místo na ose.





















Napiš čísla 220 250 290 na správné místo na ose.



SKRYTÁ ČÍSLA

201 - 300

201	202	203	204		206	207	208		210
211	212	213		215	216	217	218	219	220
221	222	223		225	226	227	228	229	230
	232	233		235	236	237	238		240
241	242	243	244	245		247	248	249	250
251		253	254	255	256	257	258	259	260
261	262	263	264		266	267		269	270
	272		274	275	276	277	278	279	
281	282	283	284	285	286		288	289	290
291		293		295	296	297		299	300

Zapiš čísla, která zakrývají obrázky.



--	--	--



--	--	--



--	--	--



--	--	--



--	--	--



--	--	--

ZTRACENÁ ČÍSLA

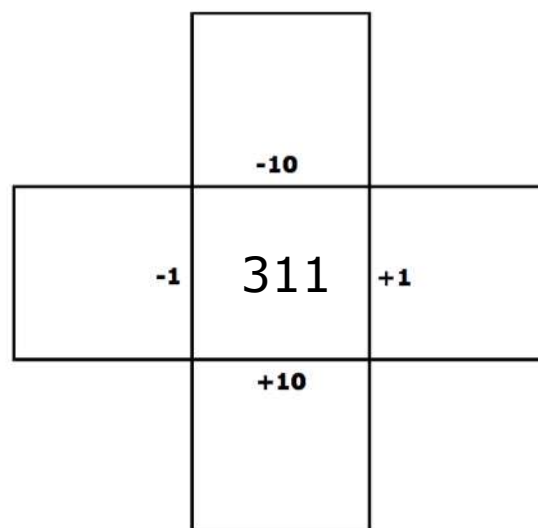
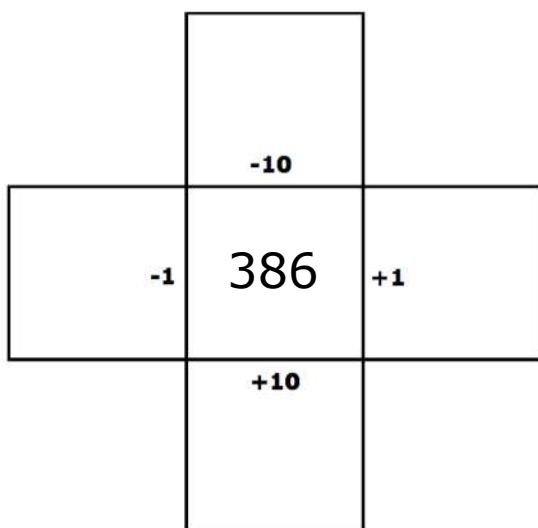
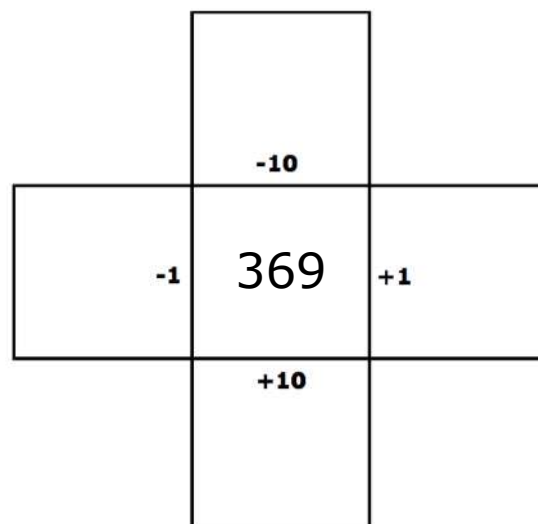
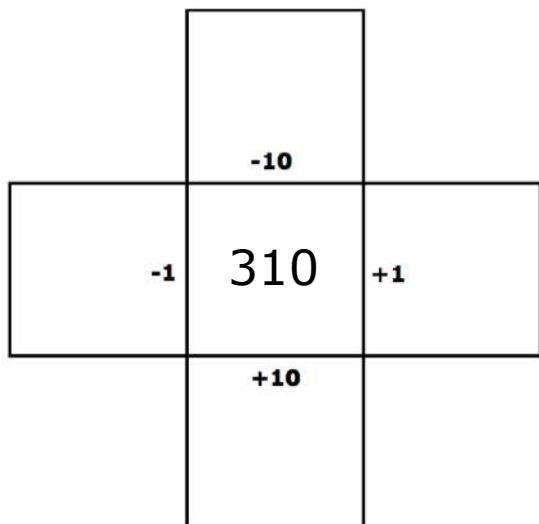
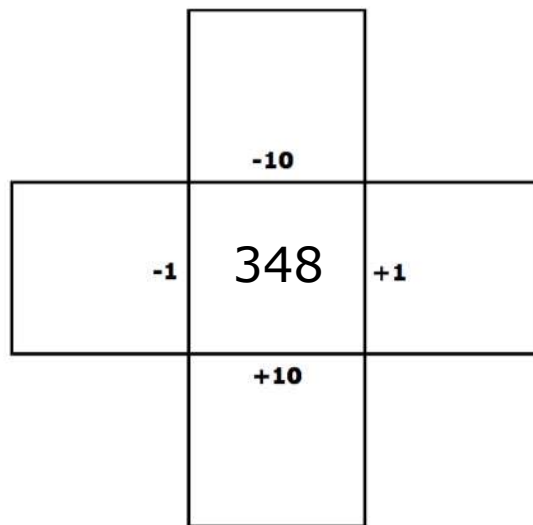
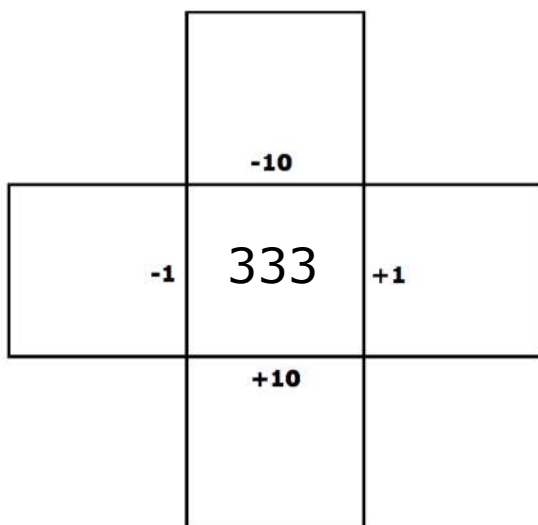
201 - 300

201	202	203		205	206	207	208	209	
211		213	214	215	216	217	218	219	220
221	222	223	224		226	227	228	229	
	232	233	234	235	236	237	238	239	240
241	242		244	245	246	247		249	250
251		253		255	256	257	258	259	260
261		263	264	265		267	268		270
271	272	273	274		276	277		279	280
281	282	283		285	286		288	289	290
291	292		294		296	297	298		300

Doplň ztracená čísla.

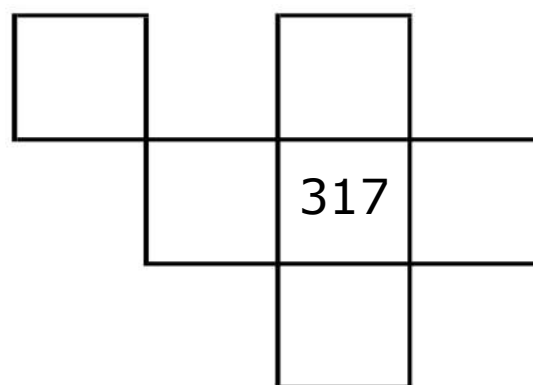
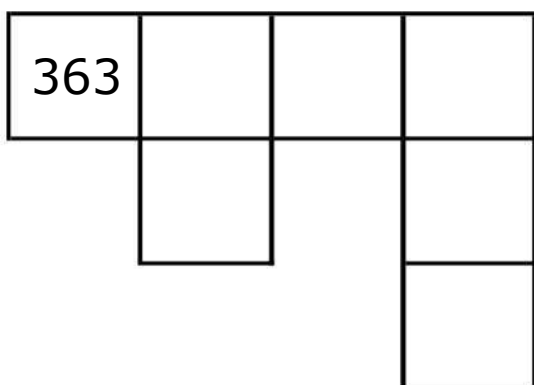
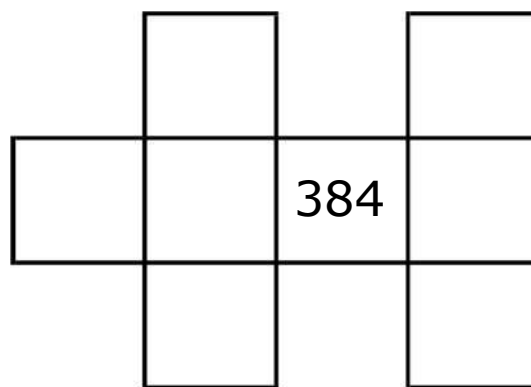
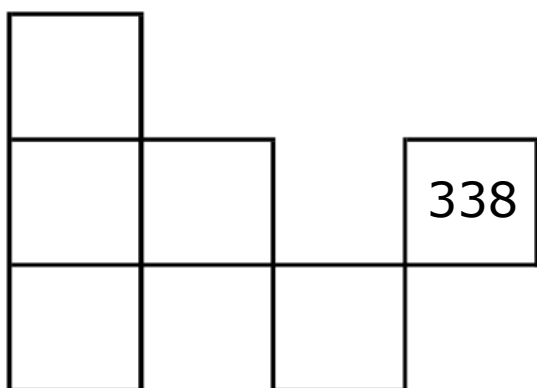
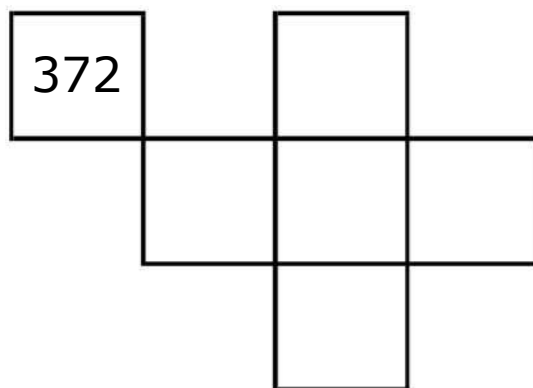
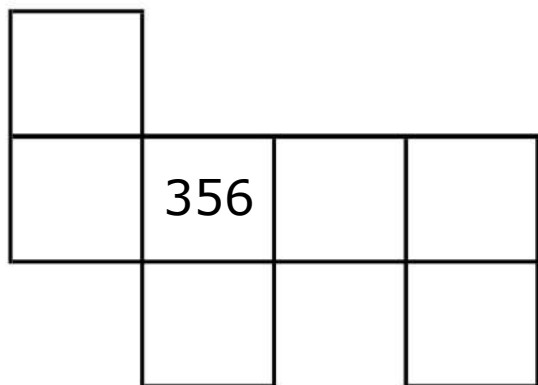
MÉNĚ-VÍCE

301-400



PUZZLE

301-400



CHYBĚJÍCÍ ČÍSLA

301-400

Najdi souvislost mezi jednotlivými čísly a doplň chybějící.

1. 331 ___ 333 ___ ___ 336 337 ___ ___ ___

2. ___ ___ 330 ___ ___ ___ 370 ___ 390 ___

3. ___ 356 ___ ___ 359 ___ ___ ___ ___

4. ___ ___ 374 ___ ___ ___ 378 ___ ___ ___

5. ___ ___ ___ ___ 363 ___ ___ 366 ___ ___

6. ___ ___ ___ ___ 395 ___ ___ ___ 399 ___

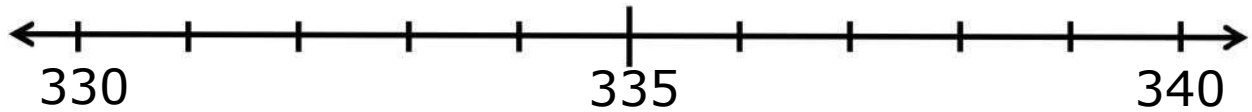
7. ___ 342 344 ___ 348 ___ ___ ___ ___

8. ___ ___ ___ 383 ___ 387 389 ___ ___ ___


ČÍSELNÉ ŘADY

301-400


Napiš čísla 333 336 331 na správné místo na ose.



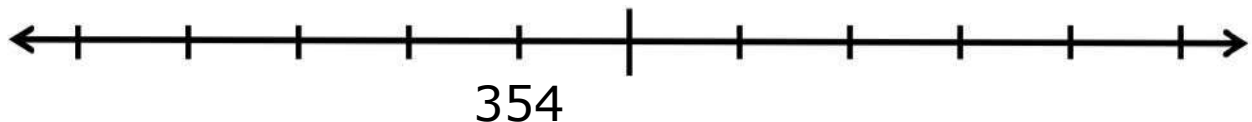
Napiš čísla 395 397 399 na správné místo na ose.




Napiš čísla 342 345 348 na správné místo na ose.




Napiš čísla 351 357 360 na správné místo na ose.



Napiš čísla 307 311 314 na správné místo na ose.





















Napiš čísla 320 350 390 na správné místo na ose.



SKRYTÁ ČÍSLA

301 - 400

301	302	303	304		306	307	308		310
311		313	314	315	316	317	318	319	
321	322	323		325	326	327	328	329	330
331	332		334	335	336	337	338		340
341	342	343	344	345		347	348	349	350
351	352	353		355	356	357	358	359	360
361	362	363	364		366	367		369	370
	372	373	374	375	376	377	378	379	
381	382		384	385	386		388	389	390
391		393		395	396	397		399	400

Zapiš čísla, která zakrývají obrázky.



--	--	--



--	--	--



--	--	--



--	--	--



--	--	--



--	--	--

ZTRACENÁ ČÍSLA

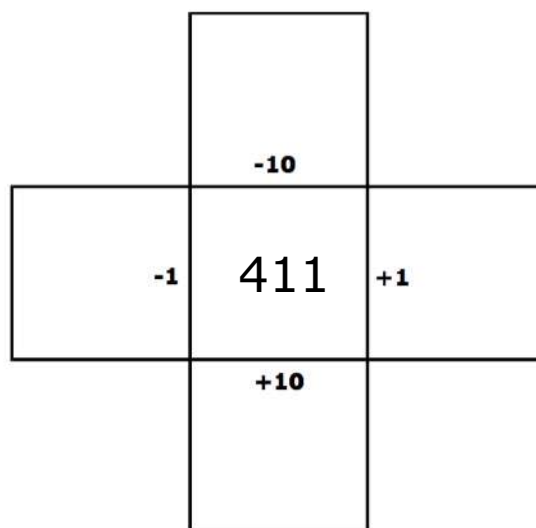
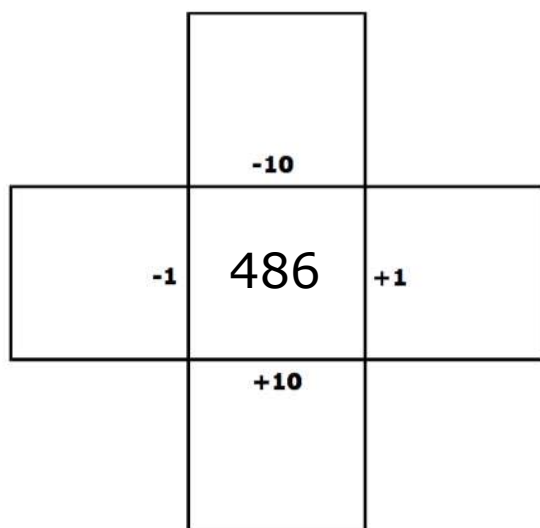
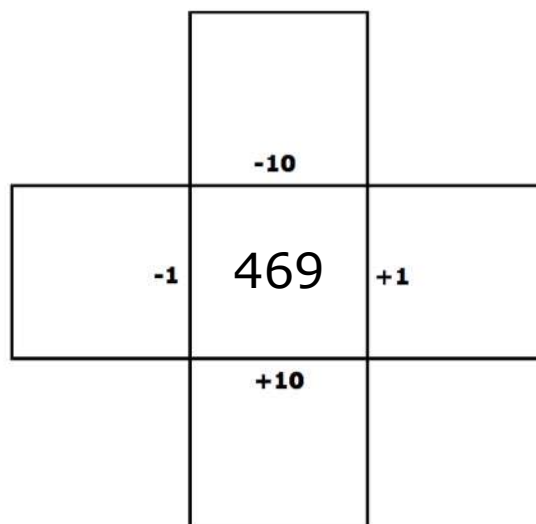
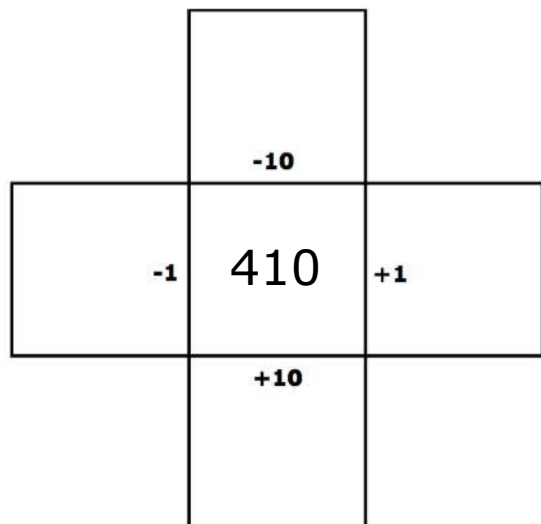
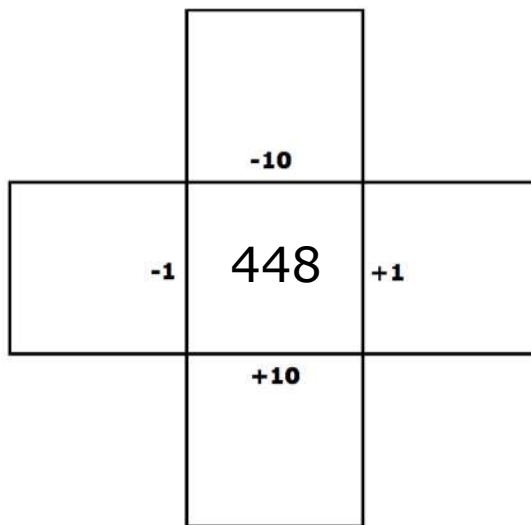
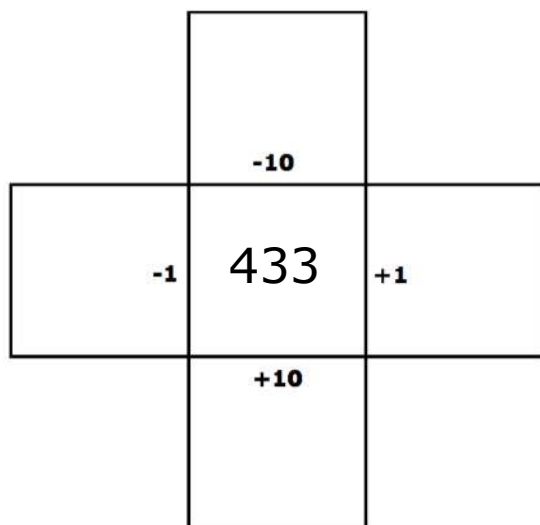
301 - 400

301		303	304	305	306	307	308	309	
311	312	313		315	316		318	319	
321		323	324	325	326	327	328		330
331	332	333		335	336	337	338	339	340
341	342	343	344		346		348		350
351		353	354	355	356	357	358	359	
361	362	363	364		366		368	369	370
	372	373	374	375	376	377	378		380
381	382		384	385	386		388	389	390
391	392	393	394		396	397	398	399	400

Doplň ztracená čísla.

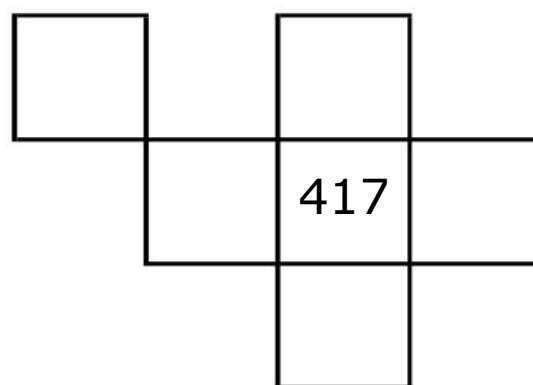
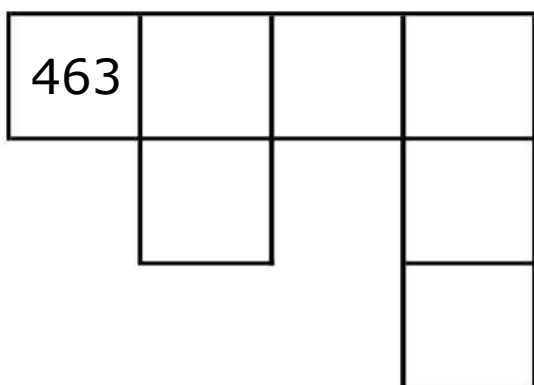
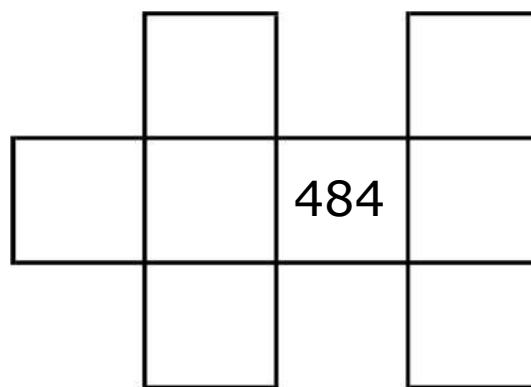
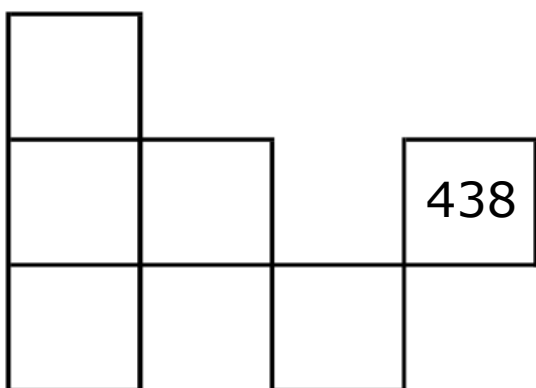
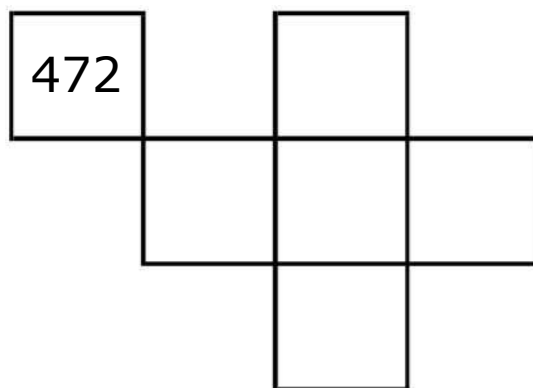
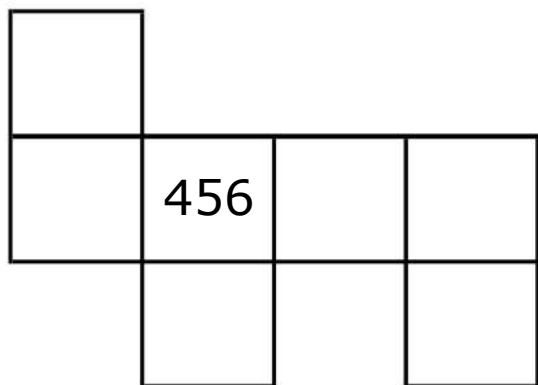
MÉNĚ-VÍCE

401-500



PUZZLE

401-500



CHYBĚJÍCÍ ČÍSLA

401-500

Najdi souvislost mezi jednotlivými čísly a doplň chybějící.

1. 431 ___ 433 ___ ___ 436 437 ___ ___ ___

2. ___ ___ 430 ___ ___ ___ 470 ___ 490 ___

3. ___ 456 ___ ___ 459 ___ ___ ___ ___ ___

4. ___ ___ 474 ___ ___ ___ 478 ___ ___ ___

5. ___ ___ ___ ___ 463 ___ ___ 466 ___ ___

6. ___ ___ ___ ___ 495 ___ ___ ___ 499 ___

7. ___ 442 444 ___ 448 ___ ___ ___ ___ ___

8. ___ ___ ___ 483 ___ 487 489 ___ ___ ___


ČÍSELNÉ ŘADY

401-500


Napiš čísla 433 436 431 na správné místo na ose.



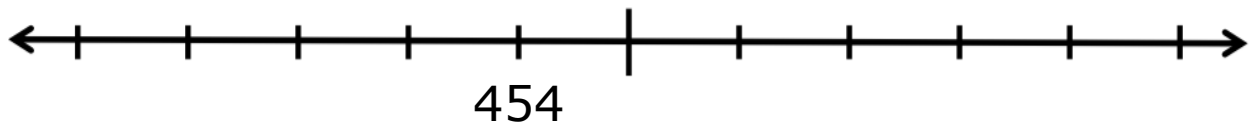
Napiš čísla 495 497 499 na správné místo na ose.




Napiš čísla 442 445 448 na správné místo na ose.




Napiš čísla 451 457 460 na správné místo na ose.



Napiš čísla 407 411 414 na správné místo na ose.





















Napiš čísla 420 450 490 na správné místo na ose.



SKRYTÁ ČÍSLA

401 - 500

401	402	403	404		406	407	408		410
411	412	413	414	415	416	417	418	419	
421	422	423		425	426	427	428	429	430
	432	433	434	435	436	437	438		440
441	442	443	444	445		447	448	449	450
451		453		455	456	457	458	459	460
461	462	463	464		466	467		469	470
	472		474	475	476	477	478	479	
481	482	483	484	485	486		488	489	490
491		493		495	496	497		499	500

Zapiš čísla, která zakrývají obrázky.



--	--	--



--	--	--



--	--	--



--	--	--



--	--	--



--	--	--

ZTRACENÁ ČÍSLA

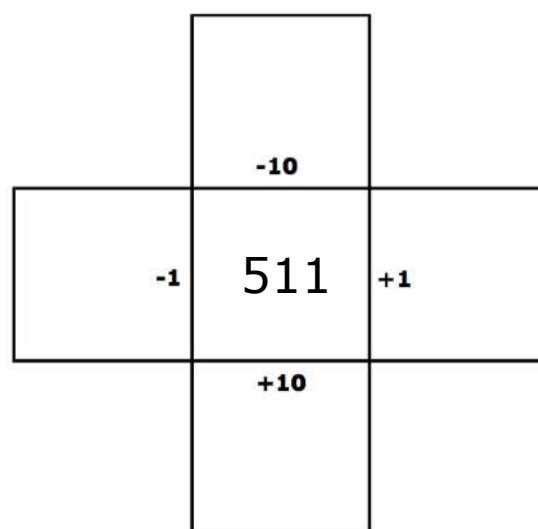
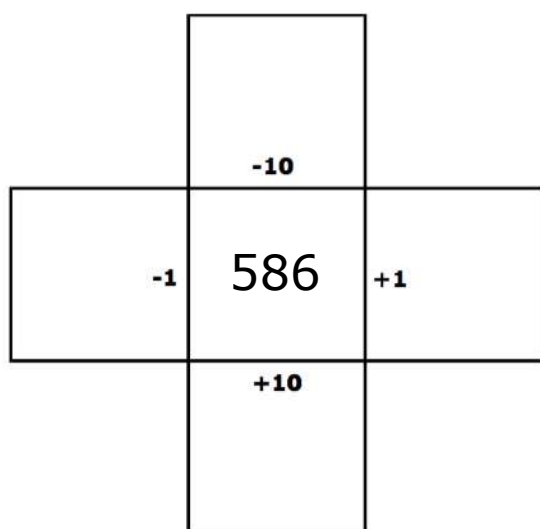
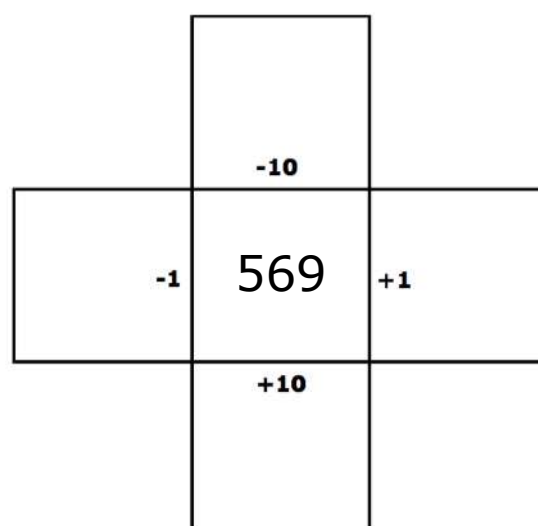
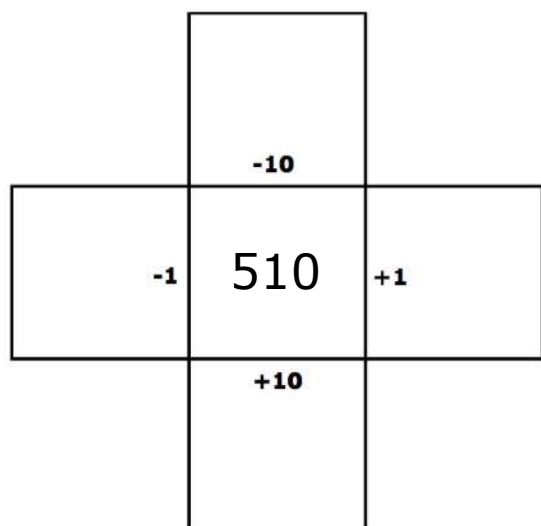
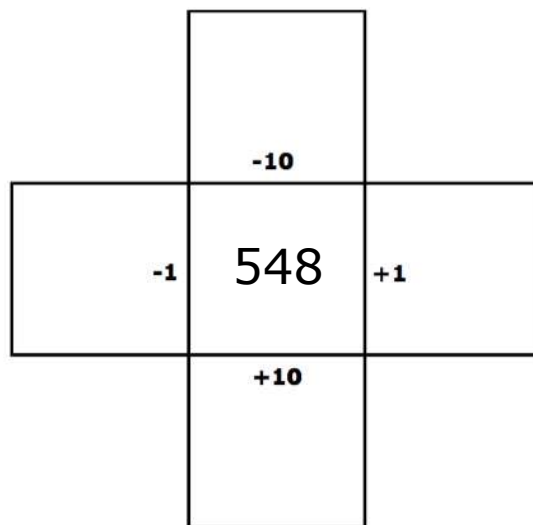
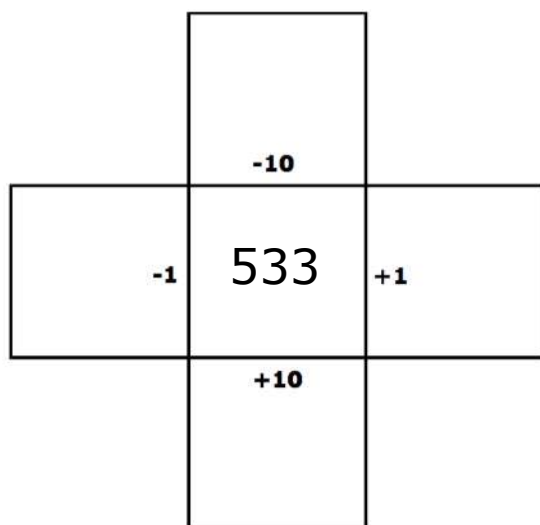
401 - 500

401	402	403	404	405	406	407	408		410
411		413		415		417	418		420
421	422		424	425	426	427		429	430
431		433	434	435		437	438		440
441	442	443	444	445	446	447	448	449	450
451		453	454		456	457		459	460
461	462	463	464	465	466	467	468	469	470
471		473		475	476	477	478		480
481	482	483	484	485	486		488	489	490
491	492	493	494	495		497	498		500

Doplň ztracená čísla.

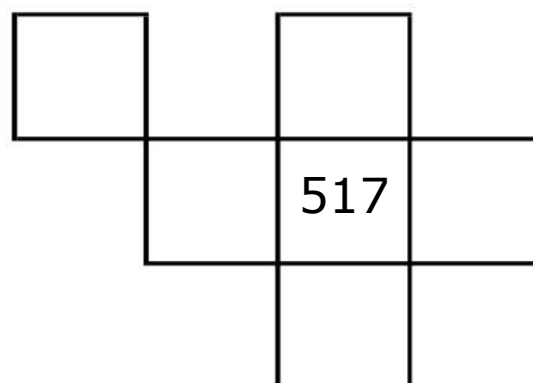
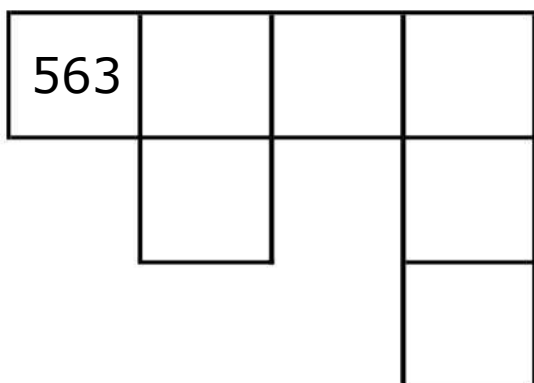
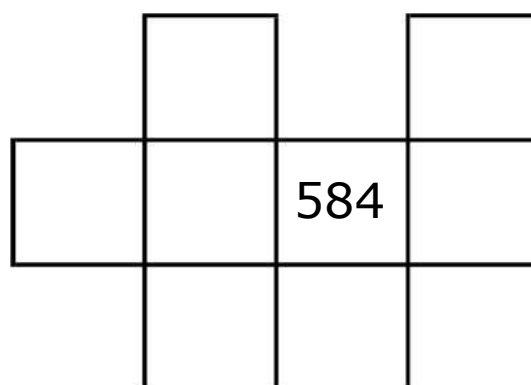
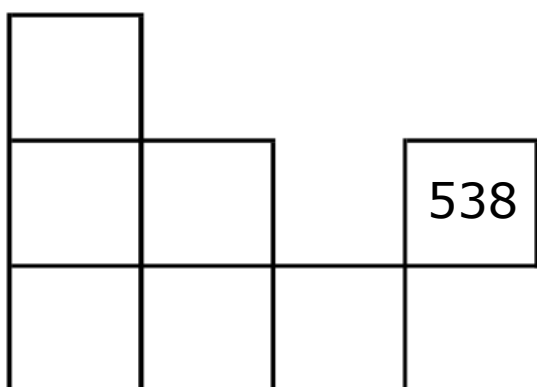
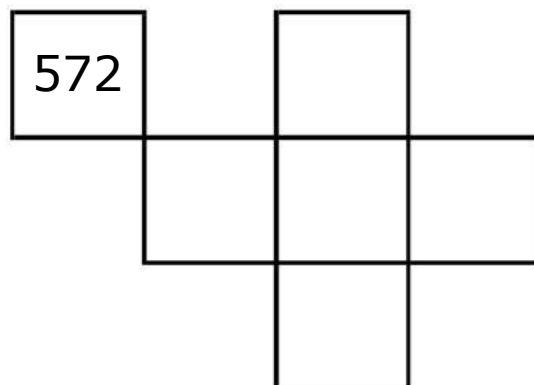
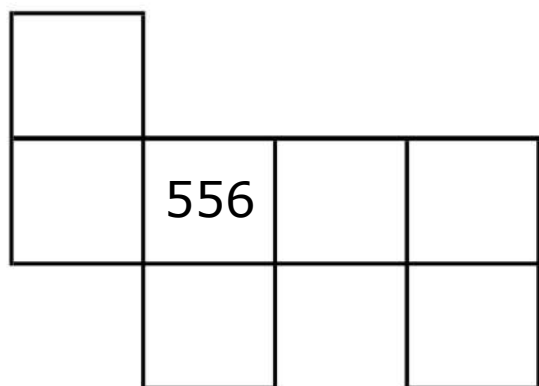
MÉNĚ-VÍCE

501-600



PUZZLE

501-600



CHYBĚJÍCÍ ČÍSLA

501-600

Najdi souvislost mezi jednotlivými čísly a doplň chybějící.

1. 531 ___ 533 ___ ___ 536 537 ___ ___ ___

2. ___ ___ 530 ___ ___ ___ 570 ___ 590 ___

3. ___ 556 ___ ___ 559 ___ ___ ___ ___

4. ___ ___ 574 ___ ___ ___ 578 ___ ___ ___

5. ___ ___ ___ ___ 563 ___ ___ 566 ___ ___

6. ___ ___ ___ ___ 595 ___ ___ ___ 599 ___

7. ___ 542 544 ___ 548 ___ ___ ___ ___

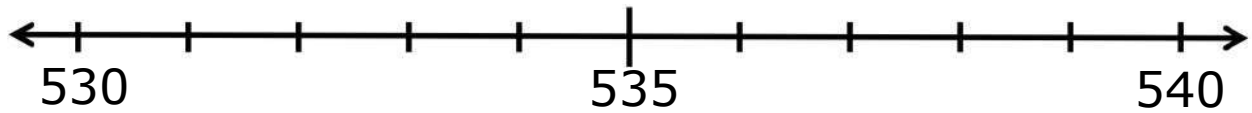
8. ___ ___ ___ 583 ___ 587 589 ___ ___ ___




ČÍSELNÉ ŘADY

501-600


Napiš čísla 533 536 531 na správné místo na ose.



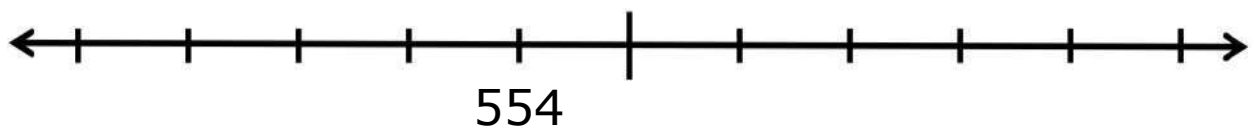
Napiš čísla 595 597 599 na správné místo na ose.




Napiš čísla 542 545 548 na správné místo na ose.




Napiš čísla 551 557 560 na správné místo na ose.



Napiš čísla 507 511 514 na správné místo na ose.





















Napiš čísla 520 550 590 na správné místo na ose.



SKRYTÁ ČÍSLA

501 - 600

501	502	503	504		506	507	508		510
511	512	513	514	515	516	517	518	519	
521	522	523		525	526	527	528	529	530
	532	533	534	535	536	537	538		540
541	542	543	544	545		547	548	549	550
551		553		555	556	557	558	559	560
561	562	563	564		566	567		569	570
571	572		574	575	576	577	578	579	
581	582		584	585	586		588	589	590
591		593		595	596	597		599	600

Zapiš čísla, která zakrývají obrázky.



--	--	--



--	--	--



--	--	--



--	--	--



--	--	--



--	--	--

ZTRACENÁ ČÍSLA

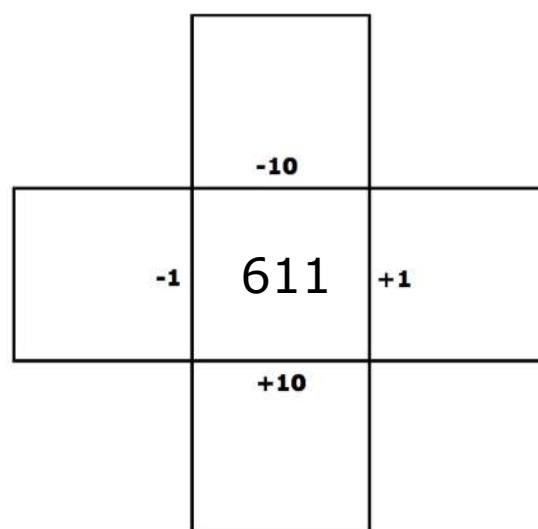
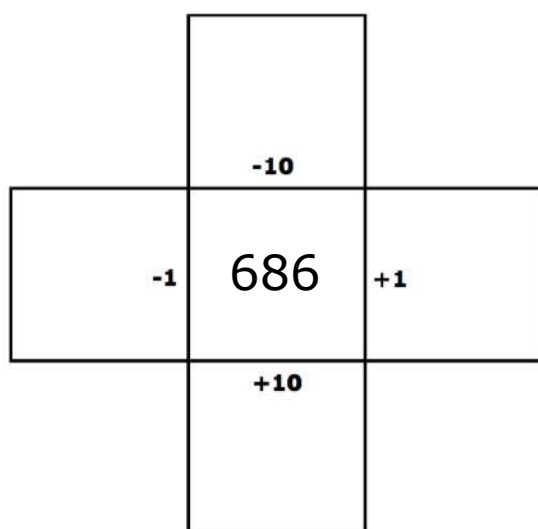
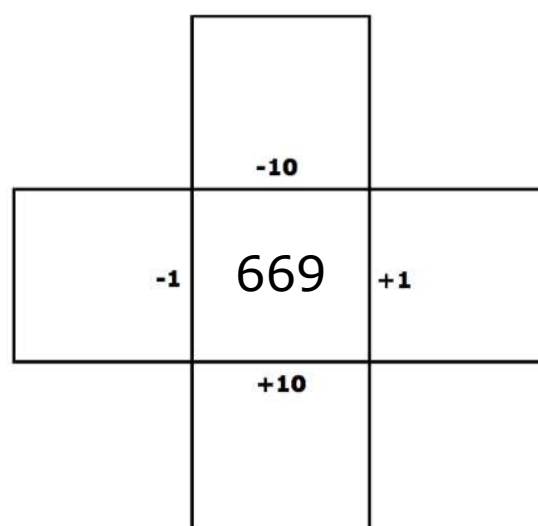
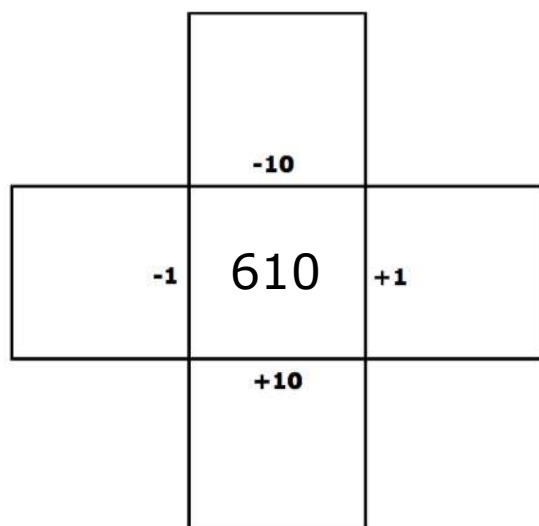
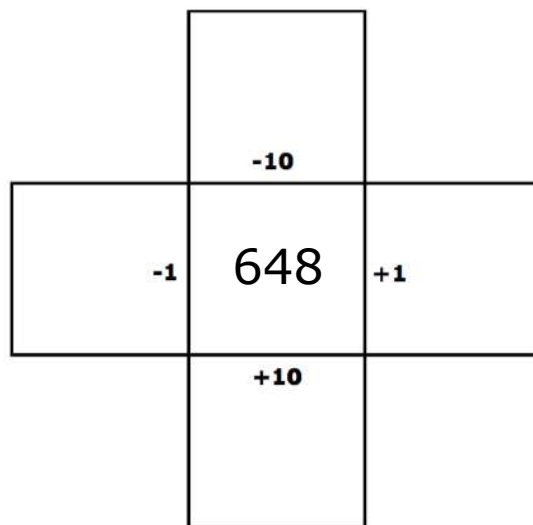
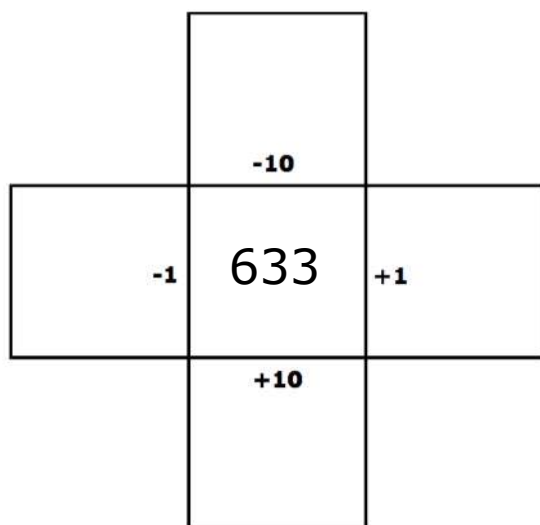
501 - 600

501	502		504	505	506	507	508	509	510
511	512	513	514		516	517	518		520
521		523	524	525	526		528	529	530
531	532		534	535	536	537		539	
541		543	544	545		547	548	549	550
551	552	553		555	556	557		559	560
561		563	564	565		567	568	569	570
571	572		574		576	577	578	579	580
	582	583	584	585	586		588		590
591	592	593		595	596	597	598	599	600

Doplň ztracená čísla.

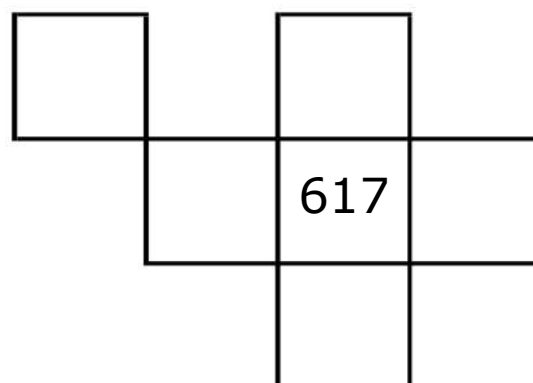
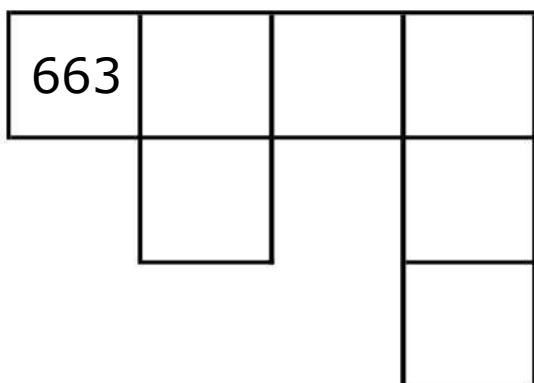
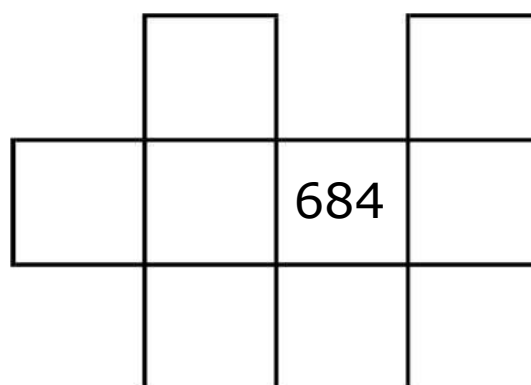
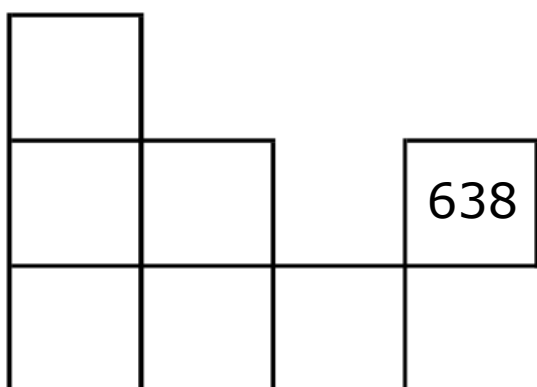
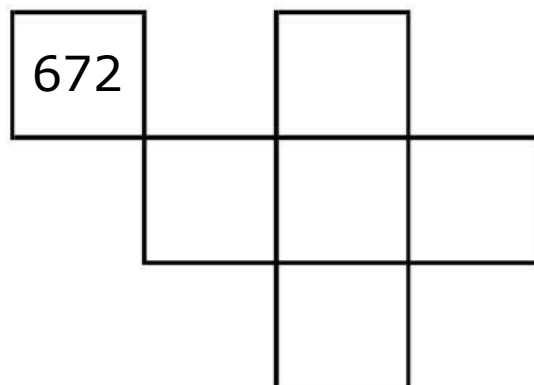
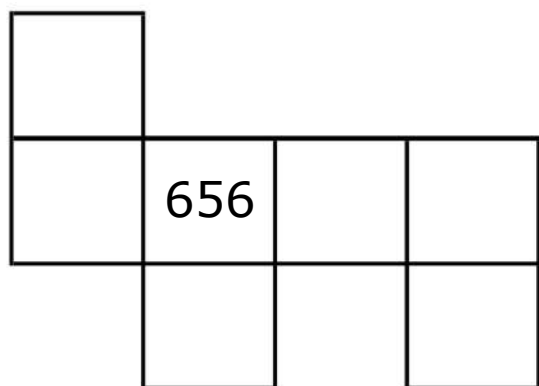
MÉNĚ-VÍCE

601-700



PUZZLE

601-700



CHYBĚJÍCÍ ČÍSLA

601-700

Najdi souvislost mezi jednotlivými čísly a doplň chybějící.

1. 631 ___ 633 ___ ___ 636 637 ___ ___ ___

2. ___ ___ 630 ___ ___ ___ 670 ___ 690 ___

3. ___ 656 ___ ___ 659 ___ ___ ___ ___

4. ___ ___ 674 ___ ___ ___ 678 ___ ___ ___

5. ___ ___ ___ ___ 663 ___ ___ 666 ___ ___

6. ___ ___ ___ ___ 695 ___ ___ ___ 699 ___

7. ___ 642 644 ___ 648 ___ ___ ___ ___

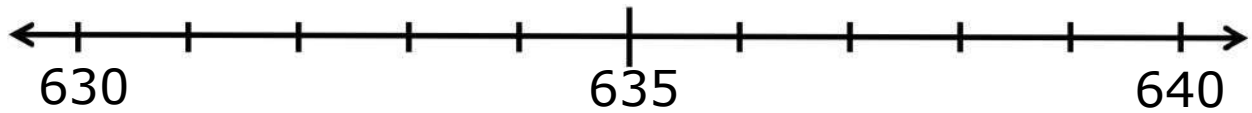
8. ___ ___ ___ 683 ___ 687 689 ___ ___ ___




ČÍSELNÉ ŘADY

601-700


Napiš čísla 633 636 631 na správné místo na ose.



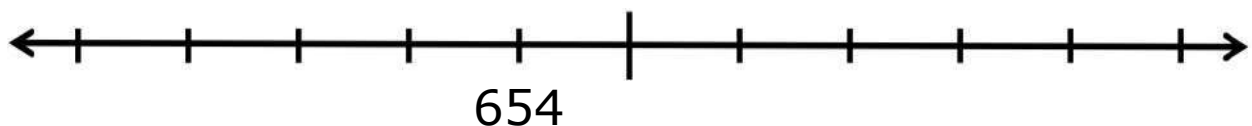
Napiš čísla 695 697 699 na správné místo na ose.




Napiš čísla 642 645 648 na správné místo na ose.




Napiš čísla 651 657 660 na správné místo na ose.



Napiš čísla 607 611 614 na správné místo na ose.





















Napiš čísla 620 650 690 na správné místo na ose.



SKRYTÁ ČÍSLA

601 - 700

601	602	603	604	605	606	607	608		610
611	612	613	614	615	616		618	619	
	622	623		625	626	627	628	629	630
631	632	633	634		636	637	638		640
641	642	643	644	645		647	648	649	650
651		653	654	655	656	657		659	660
661	662	663	664		666	667	668	669	670
671	672	673	674	675	676	677	678	679	
681	682		684		686		688	689	690
691		693		695	696	697		699	700

Zapiš čísla, která zakrývají obrázky.



--	--	--



--	--	--



--	--	--



--	--	--



--	--	--



--	--	--

ZTRACENÁ ČÍSLA

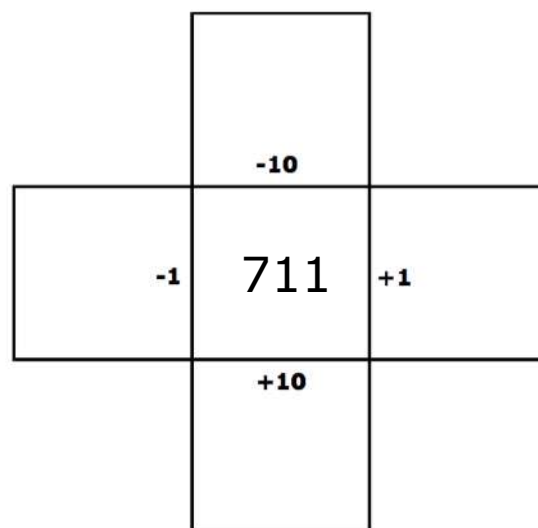
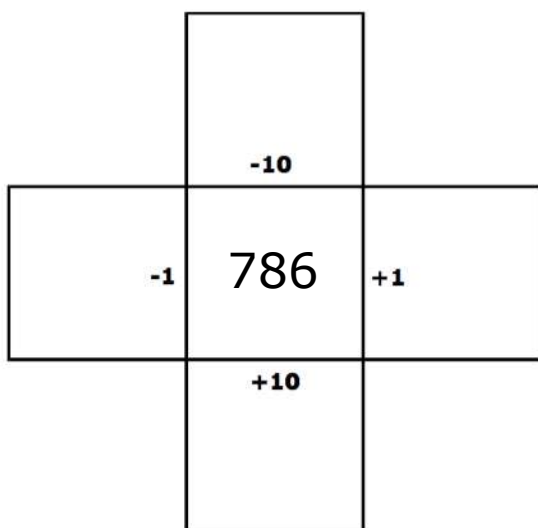
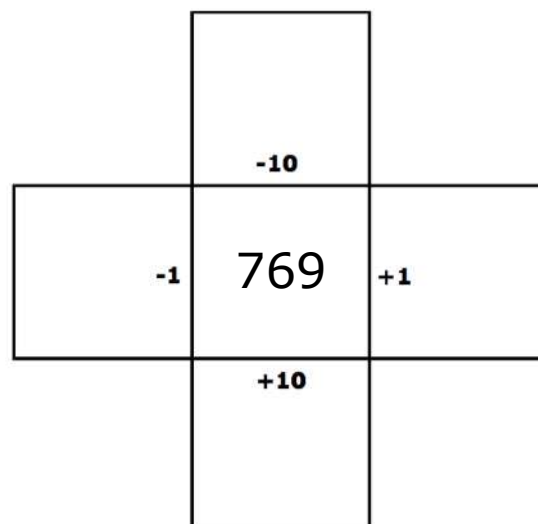
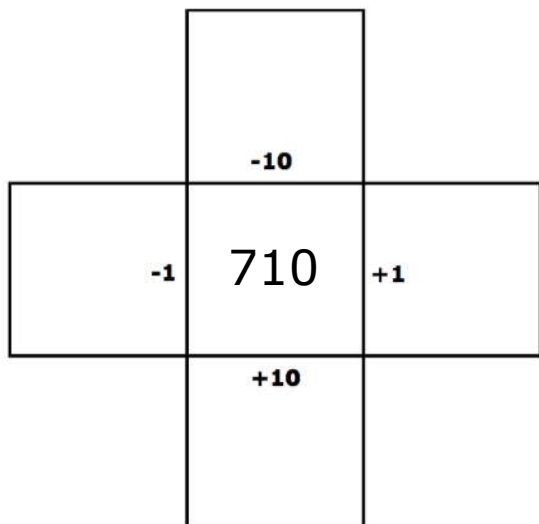
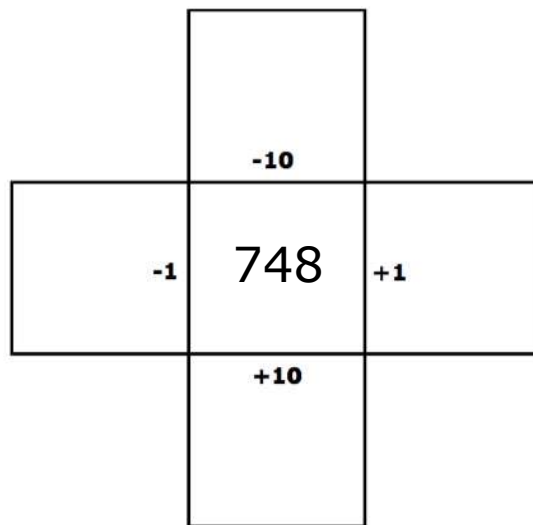
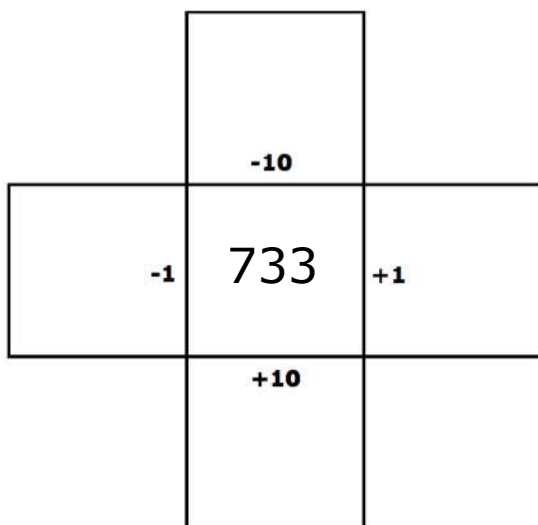
601 - 700

601	602	603		605	606	607	608	609	610
611		613	614	615		617	618		620
621	622	623	624	625	626	627	628	629	630
631		633	634		636	637	638	639	640
641		643	644	645	646	647	648		650
651	652	653	654		656	657		659	660
		663	664	665		667	668	669	670
671	672	673	674	675	676	677		679	
681		683		685		687	688	689	690
691	692		694	695	696	697		699	700

Doplň ztracená čísla.

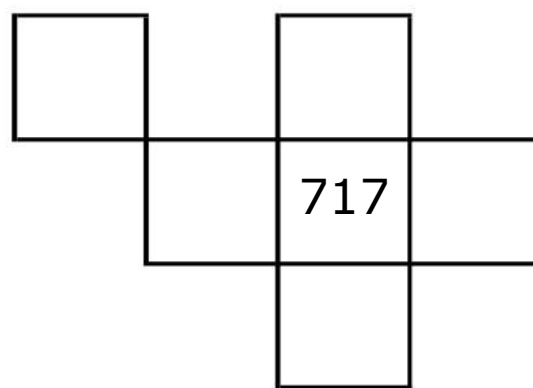
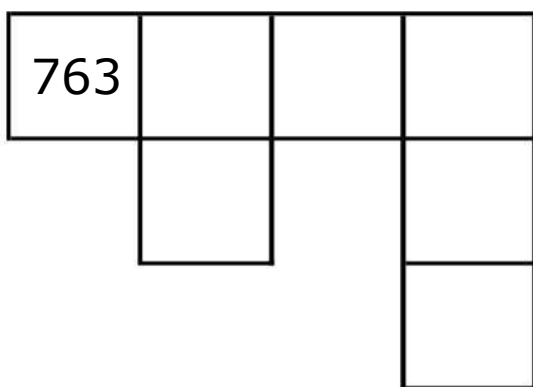
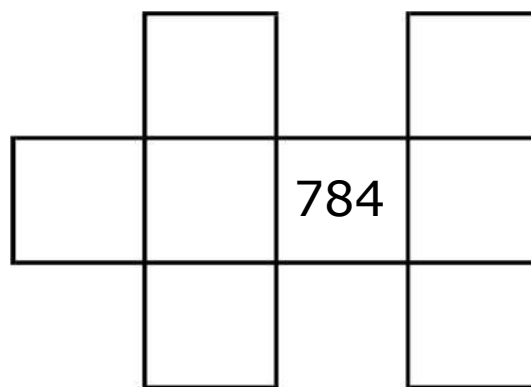
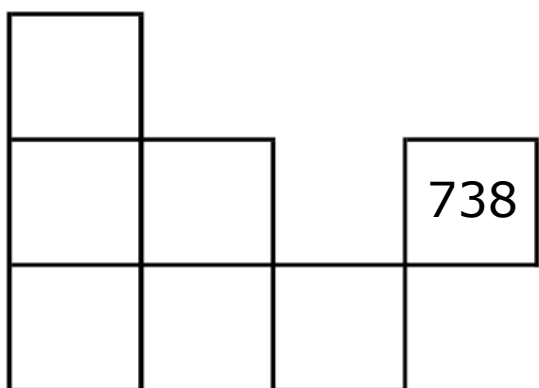
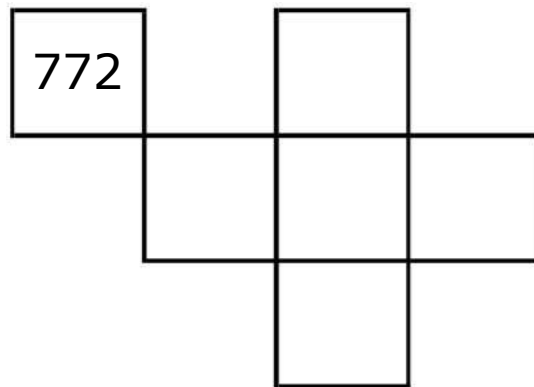
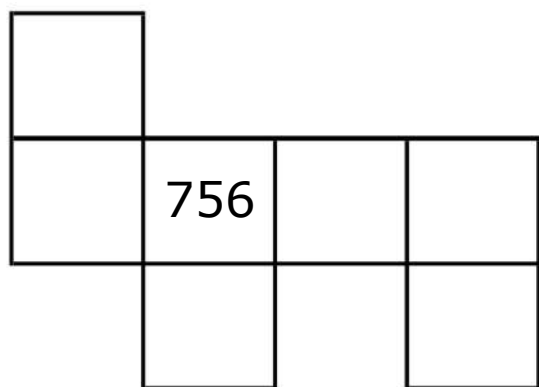
MÉNĚ-VÍCE

701-800



PUZZLE

701-800



CHYBĚJÍCÍ ČÍSLA

701-800

Najdi souvislost mezi jednotlivými čísly a doplň chybějící.

1. 731 ___ 733 ___ ___ 736 737 ___ ___ ___

2. ___ ___ 730 ___ ___ ___ 770 ___ 790 ___

3. ___ 756 ___ ___ 759 ___ ___ ___ ___

4. ___ ___ 774 ___ ___ ___ 778 ___ ___ ___

5. ___ ___ ___ ___ 763 ___ ___ 766 ___ ___

6. ___ ___ ___ ___ 795 ___ ___ ___ 799 ___

7. ___ 742 744 ___ 748 ___ ___ ___ ___

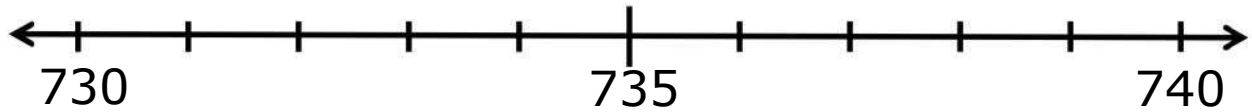
8. ___ ___ ___ 783 ___ 787 789 ___ ___ ___




ČÍSELNÉ ŘADY

701-800


Napiš čísla 733 736 731 na správné místo na ose.



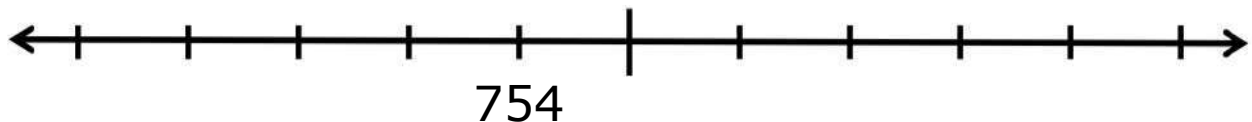
Napiš čísla 795 797 799 na správné místo na ose.




Napiš čísla 742 745 748 na správné místo na ose.




Napiš čísla 751 757 760 na správné místo na ose.



Napiš čísla 707 711 714 na správné místo na ose.





















Napiš čísla 720 750 790 na správné místo na ose.



SKRYTÁ ČÍSLA

701 - 800

701	702	703	704		706	707	708		710
711	712	713		715	716	717	718	719	
721	722	723		725	726	727	728	729	730
	732	733	734	735	736	737	738		740
741	742	743	744	745		747	748	749	750
751		753	754	755	756	757	758	759	760
761	762	763	764		766	767		769	770
	772	773	774	775	776	777	778	779	
781	782		784	785	786		788	789	790
791		793		795	796	797		799	800

Zapiš čísla, která zakrývají obrázky.



--	--	--



--	--	--



--	--	--



--	--	--



--	--	--



--	--	--

ZTRACENÁ ČÍSLA

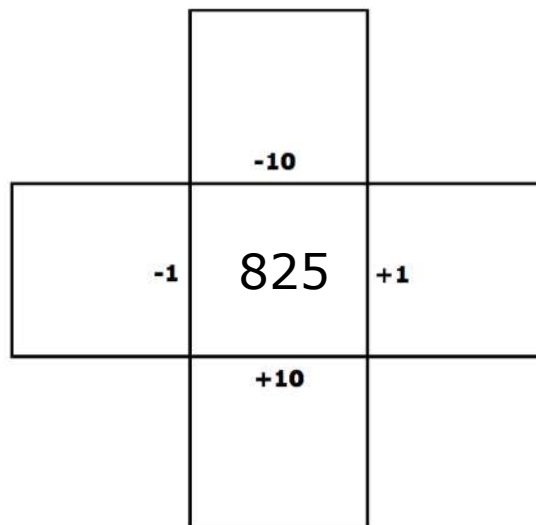
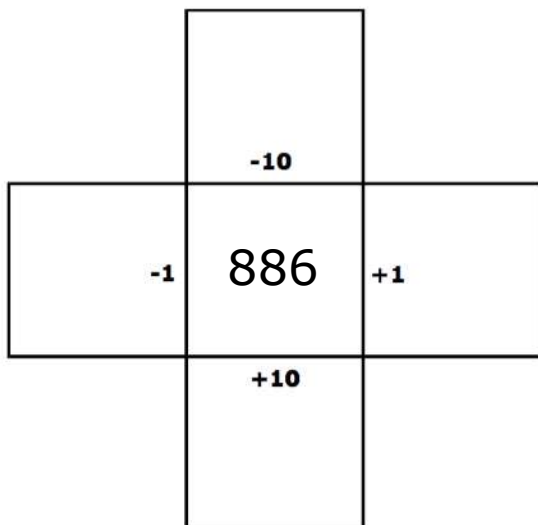
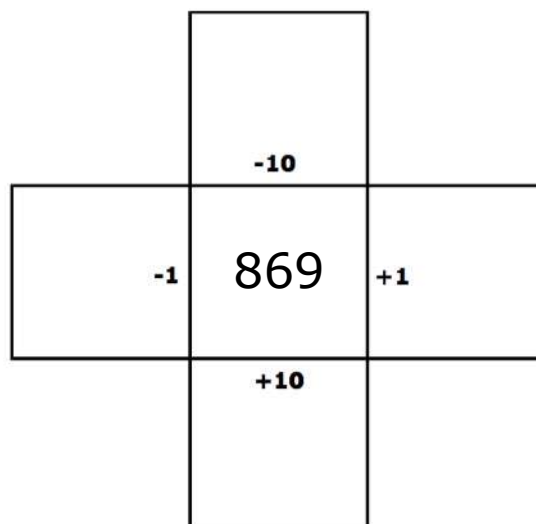
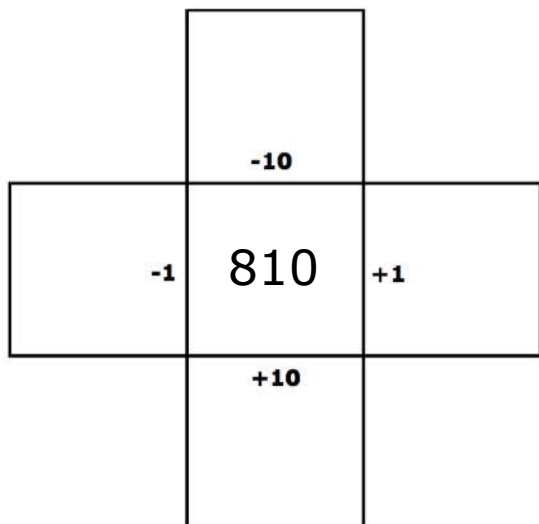
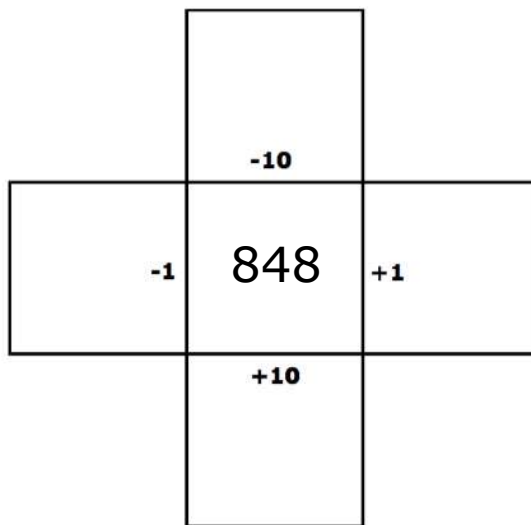
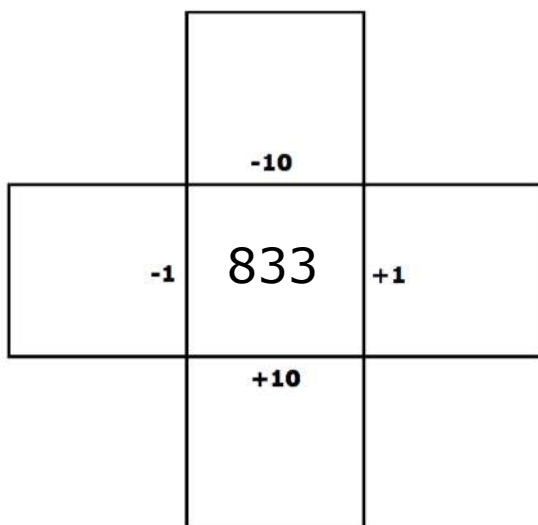
701 - 800

701	702	703	704	705	706	707		709	710
711	712	713	714		716	717	718	719	720
721	722		724	725		727	728	729	730
731	732	733	734	735	736	737	738		740
	742	743	744		746		748	749	750
751	752	753		755	756	757		759	760
761		763	764	765		767	768	769	770
771	772		774		776	777	778		780
781		783		785	786	787		789	
791	792	793	794	795		797	798	799	800

Doplň ztracená čísla.

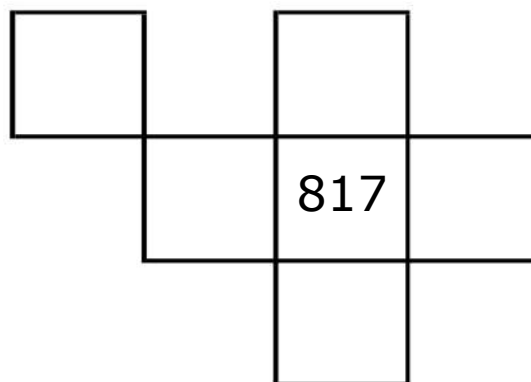
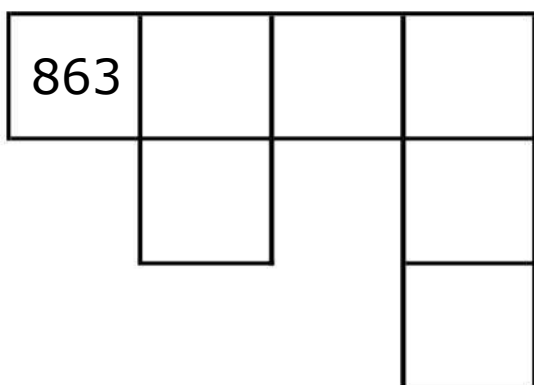
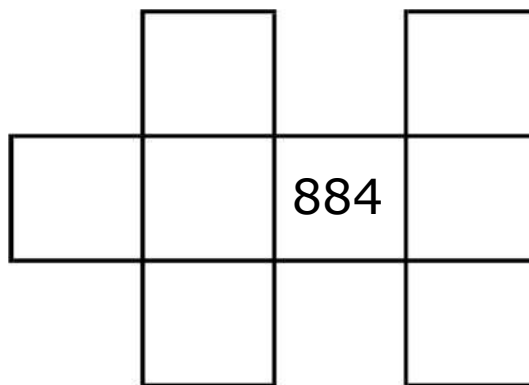
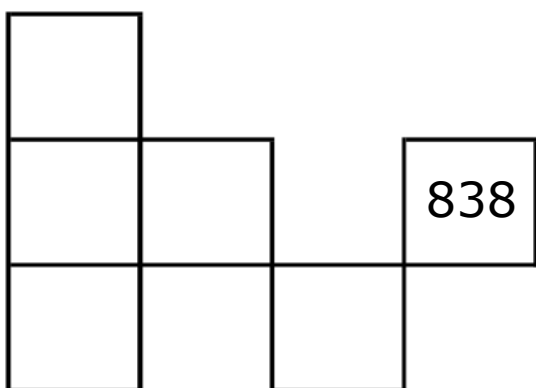
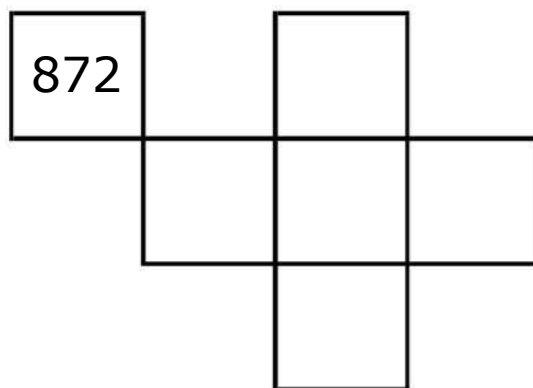
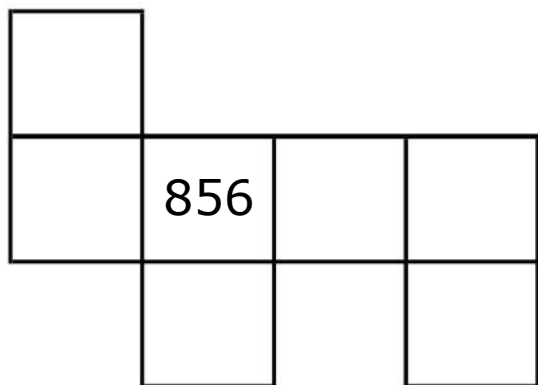
MÉNĚ-VÍCE

801-900



PUZZLE

801-900



CHYBĚJÍCÍ ČÍSLA

801-900

Najdi souvislost mezi jednotlivými čísly a doplň chybějící.

1. 831 ___ 833 ___ ___ 836 837 ___ ___ ___

2. ___ ___ 830 ___ ___ ___ 870 ___ 890 ___

3. ___ 856 ___ ___ 859 ___ ___ ___ ___

4. ___ ___ 874 ___ ___ ___ 878 ___ ___ ___

5. ___ ___ ___ ___ 863 ___ ___ 866 ___ ___

6. ___ ___ ___ ___ 895 ___ ___ ___ 899 ___

7. ___ 842 844 ___ 848 ___ ___ ___ ___

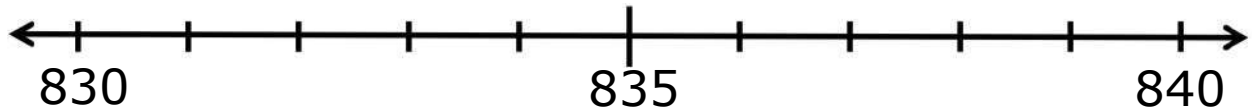
8. ___ ___ ___ 883 ___ 887 889 ___ ___ ___




ČÍSELNÉ ŘADY

801-900


Napiš čísla 833 836 831 na správné místo na ose.



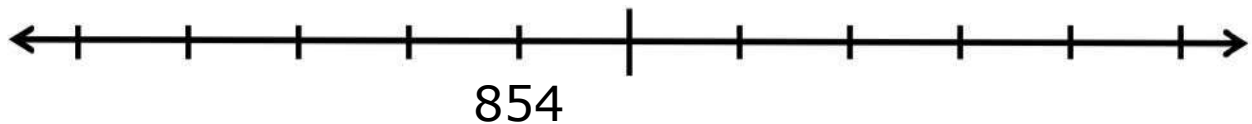
Napiš čísla 895 897 899 na správné místo na ose.




Napiš čísla 842 845 848 na správné místo na ose.




Napiš čísla 851 857 860 na správné místo na ose.



Napiš čísla 807 811 814 na správné místo na ose.





















Napiš čísla 820 850 890 na správné místo na ose.



SKRYTÁ ČÍSLA

801 - 900

801	802	803	804		806	807	808		810
811		813	814	815	816	817	818	819	
821	822	823		825	826	827	828	829	830
831	832		834	835	836	837	838		840
841		843	844	845		847	848	849	850
851	852	853		855	856	857	858	859	860
861	862	863	864		866	867		869	870
871	872	873	874	875	876	877	878	879	
881	882		884	885	886		888	889	890
891		893		895	896	897		899	900

Zapiš čísla, která zakrývají obrázky.



--	--	--



--	--	--



--	--	--



--	--	--



--	--	--



--	--	--

ZTRACENÁ ČÍSLA

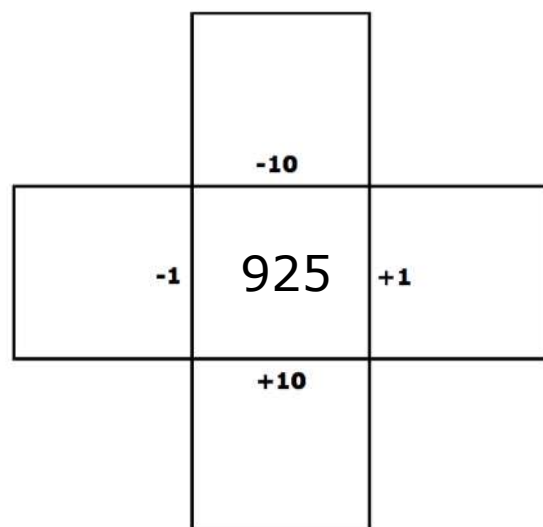
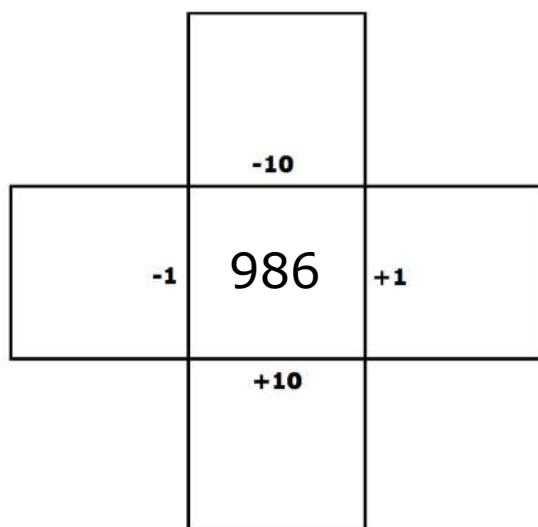
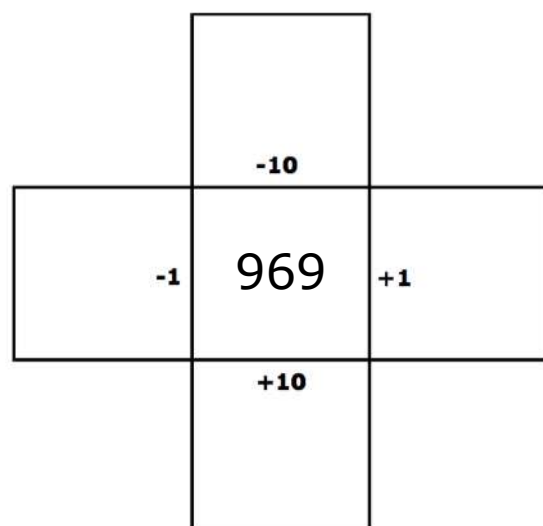
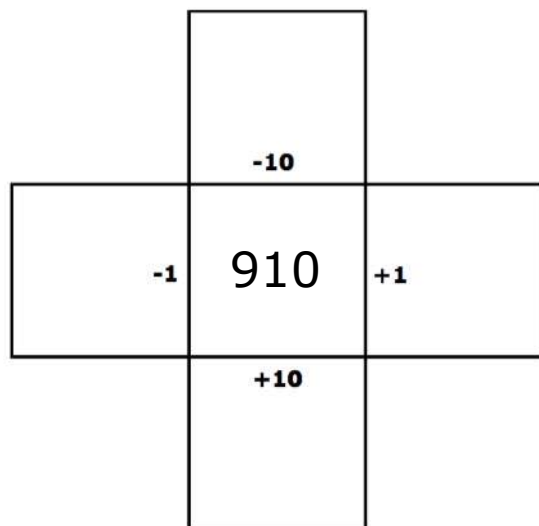
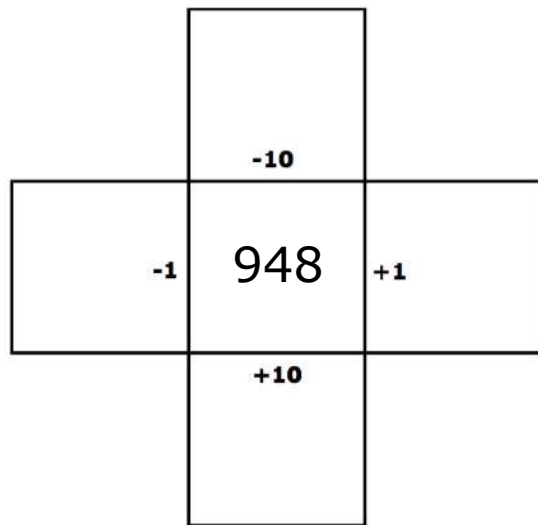
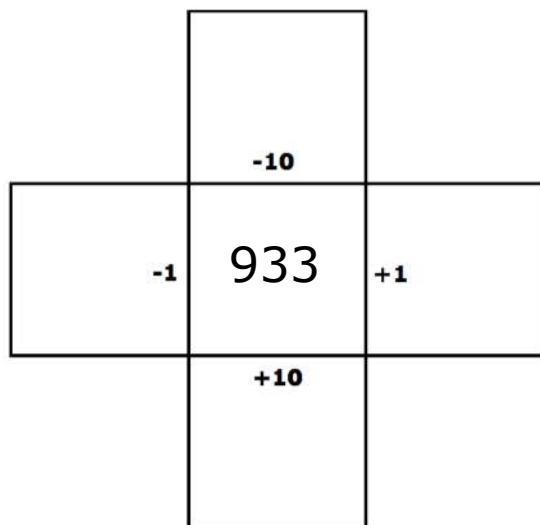
801 - 900

801	802	803	804		806	807	808	809	810
811		813		815		817	818	819	820
821	822	823	824	825		827		829	830
831		833		835	836	837	838	839	
841	842		844	845	846	847	848	849	850
851		853	854	855	856		858		860
861	862		864	865	866	867	868	869	870
871	872	873		875		877		879	880
881	882	883	884	885	886	887	888		890
	892	893	894	895		897	898	899	900

Doplň ztracená čísla.

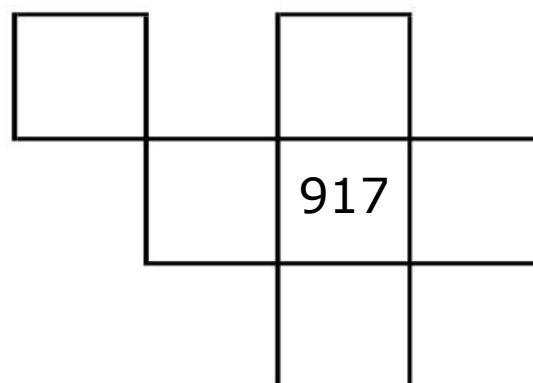
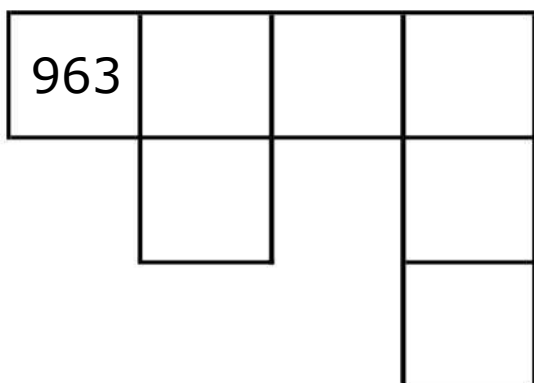
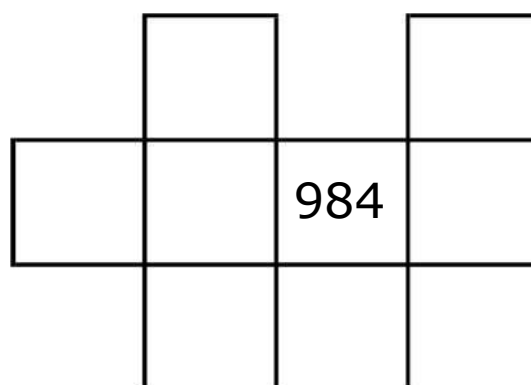
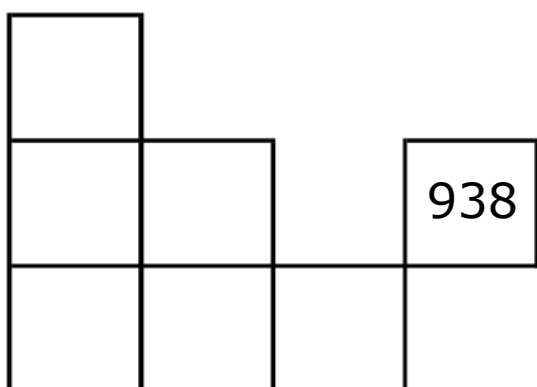
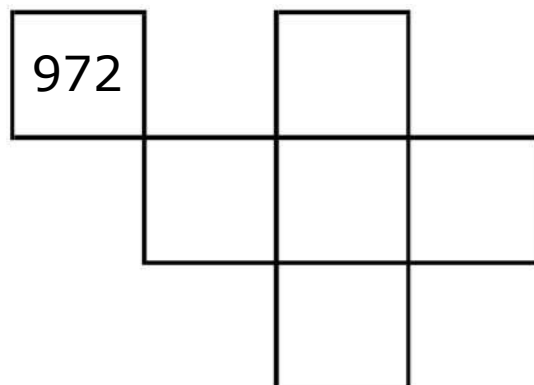
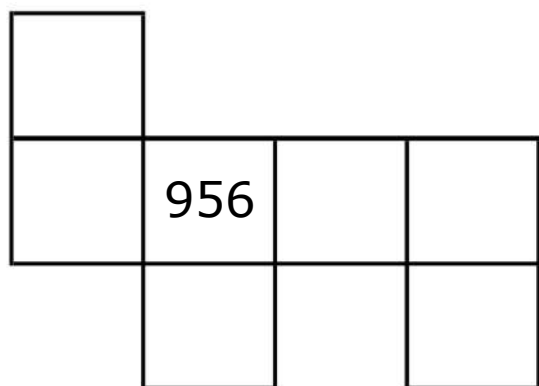
MĚNĚ-VÍCE

901-1000



PUZZLE

901-1000



CHYBĚJÍCÍ ČÍSLA

901-1000

Najdi souvislost mezi jednotlivými čísly a doplň chybějící.

1. 931 ___ 933 ___ ___ 936 937 ___ ___ ___

2. ___ ___ 930 ___ ___ ___ 970 ___ 990 ___

3. ___ 956 ___ ___ 959 ___ ___ ___ ___

4. ___ ___ 974 ___ ___ ___ 978 ___ ___ ___

5. ___ ___ ___ ___ 963 ___ ___ 966 ___ ___

6. ___ ___ ___ ___ 995 ___ ___ ___ 999 ___

7. ___ 942 944 ___ 948 ___ ___ ___ ___

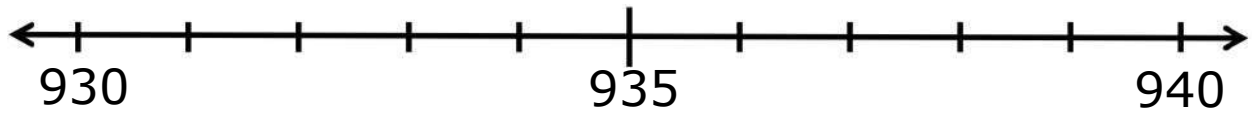
8. ___ ___ ___ 983 ___ 987 989 ___ ___ ___




ČÍSELNÉ ŘADY

901-1000


Napiš čísla 933 936 931 na správné místo na ose.



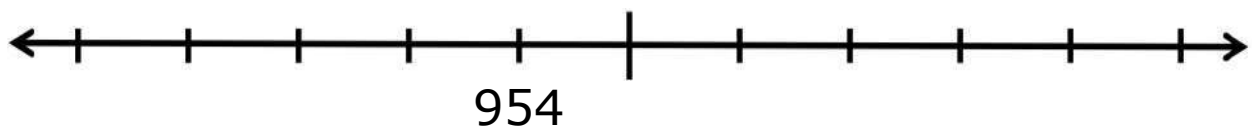
Napiš čísla 995 997 999 na správné místo na ose.




Napiš čísla 942 945 948 na správné místo na ose.




Napiš čísla 951 957 960 na správné místo na ose.



Napiš čísla 907 911 914 na správné místo na ose.





















Napiš čísla 920 950 990 na správné místo na ose.



SKRYTÁ ČÍSLA

901 - 1000

901	902	903	904		906	907	908		910
911		913	914	915	916	917	918	919	
921	922	923		925	926	927	928	929	930
931	932		934	935	936	937	938		940
941	942	943	944	945		947	948	949	950
951	952	953		955	956	957	958	959	960
961	962	963	964		966	967		969	970
	972	973	974	975	976	977	978	979	
981	982		984	985	986		988	989	990
991		993		995	996	997		999	1000

Zapiš čísla, která zakrývají obrázky.



--	--	--



--	--	--



--	--	--



--	--	--



--	--	--



--	--	--

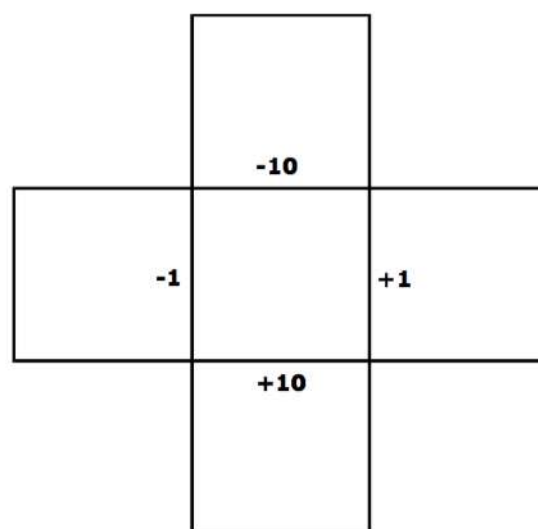
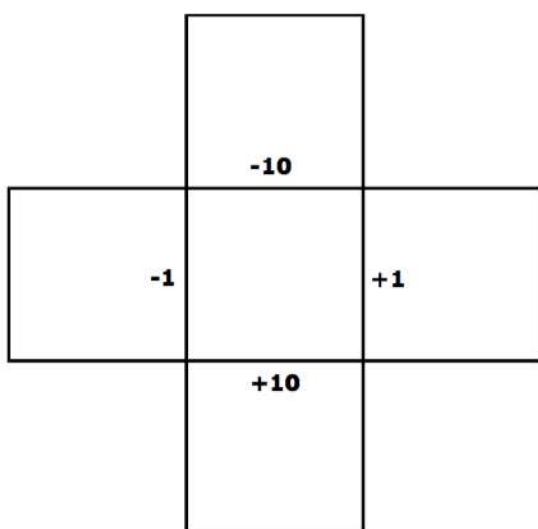
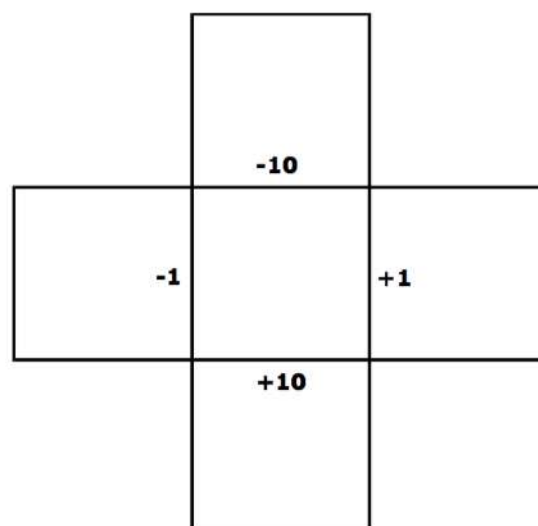
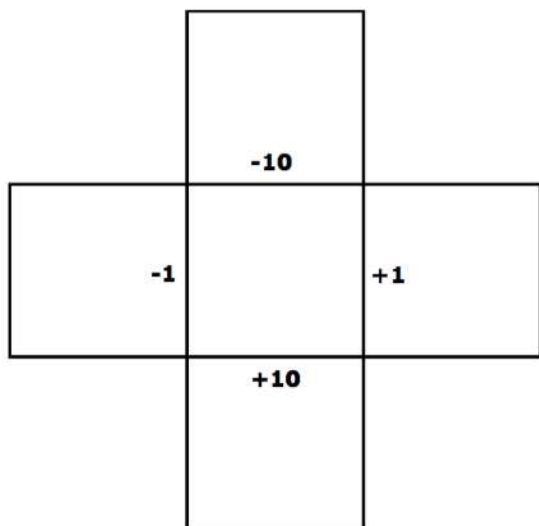
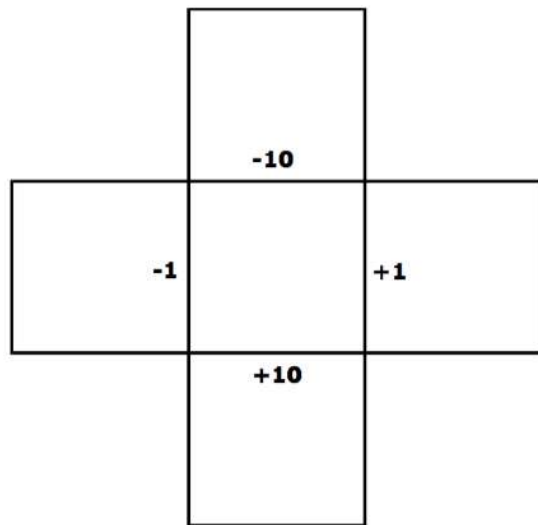
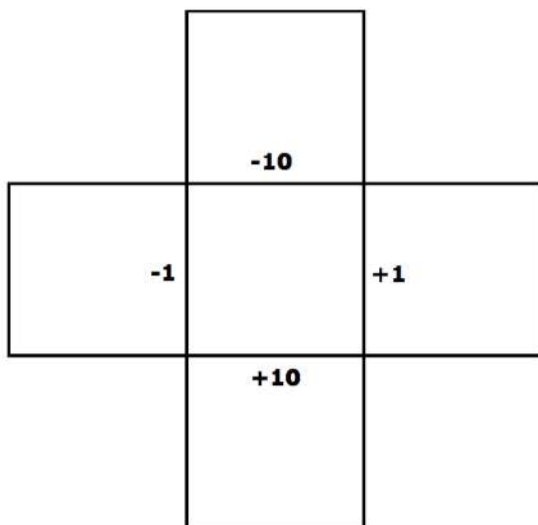
ZTRACENÁ ČÍSLA

901 - 1000

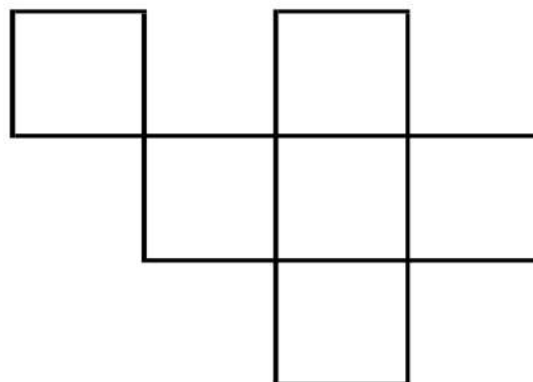
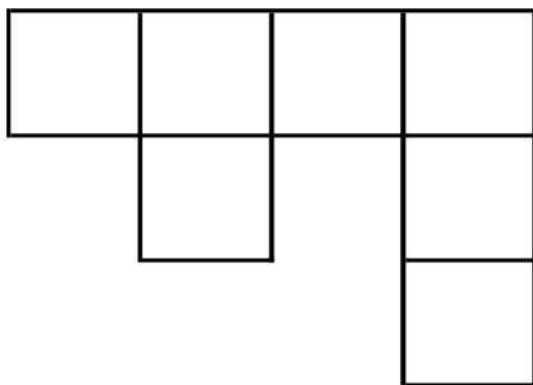

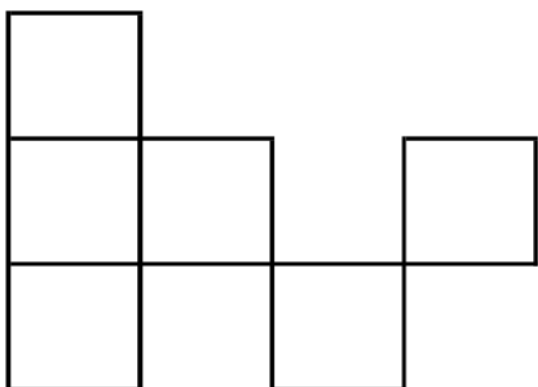
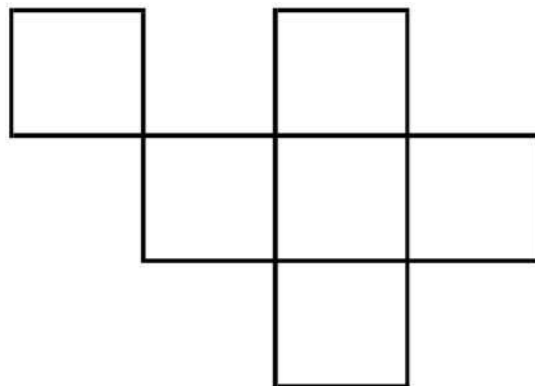
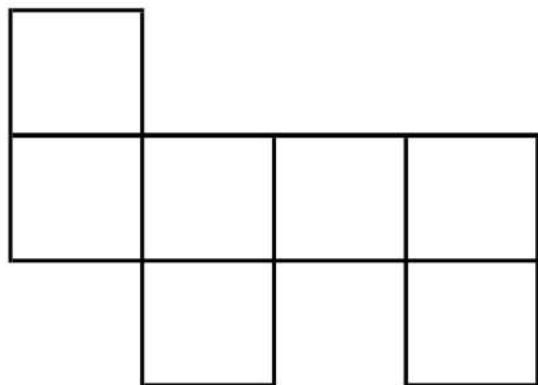
901	902		904	905	906	907	908	909	910
911	912	913		915	916	917	918		920
921		923	924	925		927	928	929	930
931	932		934		936	937	938	939	940
941		943	944	945	946	947	948		950
951	952	953	954		956		958	959	960
961	962		964	965	966	967	968		970
971	972	973		975	976		978	979	980
981		983	984	985	986	987		989	990
991	992		994		996	997	998		1000

Doplň ztracená čísla.

MÉNĚ - VÍCE



PUZZLE



CHYBĚJÍCÍ ČÍSLA

Najdi souvislost mezi jednotlivými čísly a doplň chybějící.

1. _____

2. _____

3. _____

4. _____

5. _____

6. _____

7. _____

8. _____

ČÍSELNÉ ŘADY

Napiš čísla na správné místo na ose.



Napiš čísla na správné místo na ose.



Napiš čísla na správné místo na ose.



Napiš čísla na správné místo na ose.



Napiš čísla na správné místo na ose.



Napiš čísla na správné místo na ose.

